

令和 2 年度

群馬県公立高等学校

入学者選抜学力検査問題

社 会

(後期選抜)

注 意 事 項

- 1 「始めなさい。」の指示があるまで、問題用紙を開かないこと。
- 2 解答は、全て、解答用紙に記入すること。
- 3 「やめなさい。」の指示があったら、直ちに筆記用具を置き、問題用紙と解答用紙の両方を机の上に置くこと。
- 4 問題は、1 ページから 7 ページまであります。
- 5 解答用紙の、小計の欄には何も書かないこと。


1 さと子さんは、「日本の様々な地域の学習」のまとめとして、大阪府について調べ、発表した。次の資料と図は、そのときに使用したものの一部である。後の(1)～(5)の問いに答えなさい。

発表内容

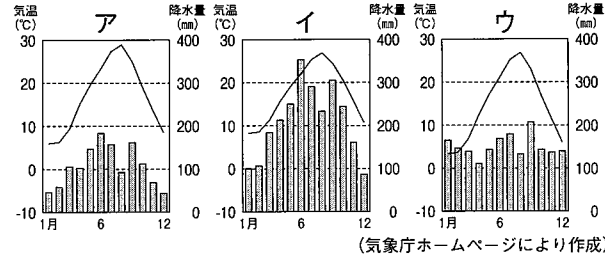
私は、百舌鳥・古市古墳群が世界遺産に登録されたことをニュースで知って、大阪府に興味を持ち、調べてみました。大阪府のある近畿地方は、北部には山地がなだらかに続き、南部には紀伊山地があります。そのため、地域によって気候が異なります。大阪湾の海岸線は、縄文時代には複雑に入り組んでいましたが、何度も治水工事をして、現在の景観になったと聞きました。

中世になると、大阪は産業や交通の拠点として栄えました。江戸時代には、西廻り航路が開かれ、商業が発展しました。戦後になると製造業がおこり、様々な技術を持つ企業が今でも多くあります。現在は、多くの外国人も訪れる国際都市として発展しています。2019年には、20か国・地域首脳会議（大阪サミット）が開かれ、情報に関する国際的なルールなども議論されました。

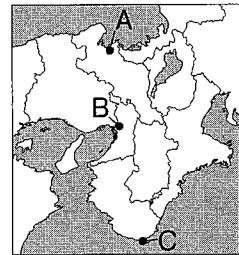
資料Ⅰ



資料Ⅱ



図



- (1) 下線部(a)に関して、資料Ⅰは日本最大の古墳である。この古墳の名称を書きなさい。
- (2) 下線部(b)に関して、資料Ⅱのア～ウは、図中のA～Cのいずれかの地点の気温と降水量のグラフである。Bの地点に当たるものを、ア～ウから選びなさい。
- (3) 下線部(c)について、西廻り航路によって新たに大阪と海路でつながれた都市を、次のア～エから選びなさい。

ア 銚子 イ 八戸 ウ 新潟 エ 平戸

- (4) 下線部(d)に関して、さと子さんは、資料Ⅲ、資料Ⅳを見つけた。資料Ⅲの取組事例では、製品づくりにおいて、どのような工夫が見られるか、資料Ⅳからわかる大阪府の製造業の特徴を踏まえて、書きなさい。

資料Ⅲ 東大阪市の取組事例

市の取組…様々な分野の専門的な技術を持つ企業が協力して、製品づくりができるように支援している。

製造品…人工衛星、スカイツリーや新幹線などに使われる精密な機器や部品など

- (5) 下線部(e)について、さと子さんは、資料Ⅴを作成した。資料Ⅴ中の波線部について、どのようなデータを蓄積して、どのように活用している事例があるか。その具体的な事例を1つ書きなさい。

資料Ⅳ 3府県の製造業に関する資料

	事業所数 (社)	平均従業員数 (人)	製造品出荷額 (百万円)
大阪	15,990	27	15,819,650
神奈川	7,697	46	16,288,163
愛知	15,870	52	44,909,000

(「平成29年工業統計表」などにより作成)

資料Ⅴ 発表メモ

世界では急速にインターネットの利用者数が増えています。個人情報を守る国際的なルールは、まだ整備されていません。大阪サミットでは、情報に関する国際的なルールについて話し合われました。これからの社会では、私たちの暮らしをよりよくするために、人々の生活から得られたデータを蓄積し、有効に活用することが期待されています。インターネットを安全に利用し、情報を有効に使用するためにも、国際的なルールの整備が必要です。

2 俊也さんは、祖父の家がある鹿児島県について調べたことをまとめ、発表した。次の図と資料は、そのときに使用したものの一部である。後の(1)～(3)の問いに答えなさい。

図Ⅰ 1983年発行の地形図



図Ⅱ 2004年発行の地形図



(国土地理院2万5千分の1地形図「鹿児島北部」1983年, 2004年発行により作成)

(1) 俊也さんは、1983年と2004年に発行された鹿児島市の地形図を見つけた。図Ⅰの1983年発行の地形図と比較して、図Ⅱの2004年発行の地形図から読み取れる情報として適切なものを、次のア～エから、2つ選びなさい。

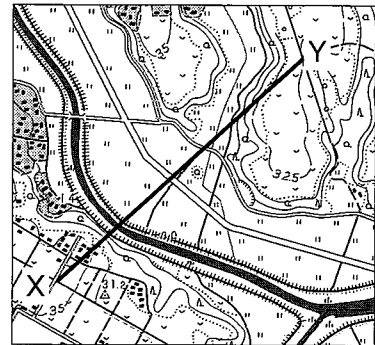
- ア 城山町で山が削られ、住宅地が開発された。
- イ 図書館が地図記号で示されるようになった。
- ウ 港の一部が埋め立てられ、海岸線が変化した。
- エ 「かごしま」駅の西に、高等学校がつけられた。

(2) 俊也さんは、祖父と訪れた鹿児島県鹿屋市の地形と土地利用について調べ、次のようにまとめた。□A□, □B□に当てはまる語を書きなさい。また、□C□, □D□には、台地と低地では土地がそれぞれどのように利用されているか、理由を含めて、当てはまる文を書きなさい。

鹿児島県には、かつて噴火した火山の活動によって作られた大規模なくぼ地である□A□が、数多くみられる。また、資料Ⅰの地域には、火山活動による噴出物が堆積してできた□B□台地が広がっており、資料Ⅰと資料Ⅱより、この地域の台地は、□C□。また、低地は、□D□。


(3) 資料Ⅲは、2月と8月における桜島の噴火による降灰の範囲を示したものである。2月と8月で降灰の範囲が変化する理由として考えられることを、簡潔に書きなさい。

資料Ⅰ 鹿児島県鹿屋市の地形図



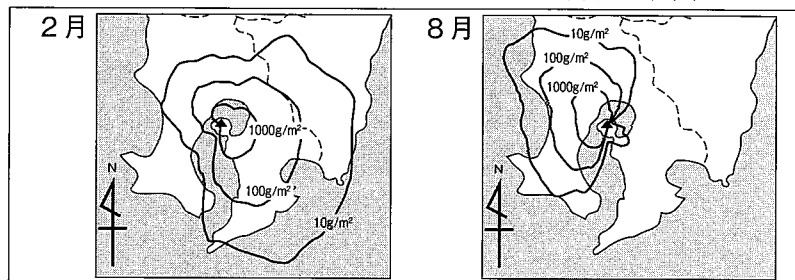
(国土地理院2万5千分の1地形図「大隅高山」1999年発行により作成)

資料Ⅱ 資料ⅠのX-Yの断面図



(国土地理院「地理院地図」により作成)

資料Ⅲ 2月と8月における桜島の噴火による降灰の範囲

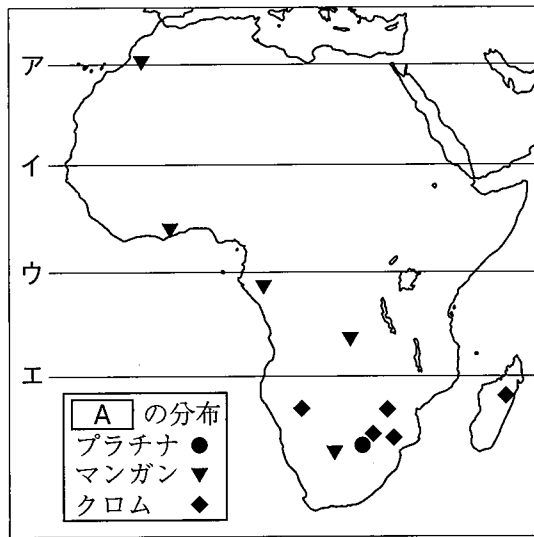


※▲は桜島の位置を示す。

(「験震時報第65巻」により作成)

3 里奈さんたちは、アフリカについて調べたことをまとめ、発表した。次の図と資料は、そのときに使用したもの的一部分である。後の(1)~(5)の問いに答えなさい。

図

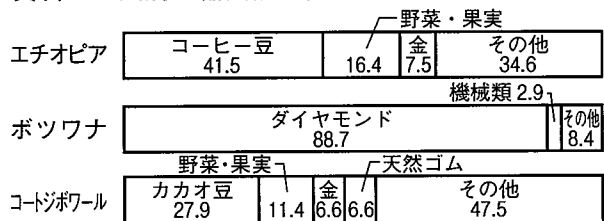


資料Ⅰ 大陸別の気候帯の割合(%)

	a	b	c	d
熱帯	7.4	5.2	38.6	63.4
乾燥帯	26.1	14.4	46.7	14.0
温帯	17.5	13.5	14.7	21.0
亜寒帯	39.2	43.4	0.0	0.0
寒帯	9.8	23.5	0.0	1.6

(「データブック オブ・ザ・ワールド2019年版」により作成)

資料Ⅱ 国別の輸出額に占める主な輸出品の割合



※エチオピアは2016年、ボツワナとコートジボワールは2017年の値を示している。
(「世界国勢図会2019/20年版」により作成)

- 図中のア～エから、赤道に当たるものを選びなさい。
- 資料Ⅰのa～dは、アフリカ、北アメリカ、南アメリカ、ユーラシアのいずれかの大陸の気候帯の割合を示したものである。アフリカ大陸に当たるものを、a～dから選びなさい。
- 図中の□Aには、近年、スマートフォンなどの電子機器に多く使われている金属の総称が入る。□Aに当てはまる語を書きなさい。
- 資料Ⅱのような特定の産物の輸出に頼る経済を何というか、書きなさい。また、このような経済の国の収入は安定しない傾向がある。その理由を、簡潔に書きなさい。
- 里奈さんたちは、アフリカをはじめとした発展途上国に関する課題を解決する手段の1つとして、「学校給食プログラム」という国際連合の活動を知り、期待できる効果について話し合い、資料Ⅲのワークシートにまとめた。資料Ⅲ中の□Bに当てはまる文を、資料Ⅲと資料Ⅳを参考に、書きなさい。

資料Ⅲ 里奈さんたちがまとめたワークシート

■発展途上国に関する課題について書き出そう

- 人口増加や天候不順のため食べ物不足、飢餓や栄養不足に苦しんでいる人がいる。
- 自分たちの食べ物を確保するのに精一杯で、子どもも働かなければならない。

↓

「学校給食プログラム」
国連の機関により、発展途上国の学校で栄養価の高い給食を無償で提供する活動

↓

■期待できる効果を書き出そう

子どもたちが食事をとることができ、必要な栄養を得られる。

□B

資料Ⅳ 「学校給食プログラム」の必要性を紹介する動画の一部


場面1 農作業をする子どもと勉強をする子ども

場面2 まき拾いをする子どもと給食を食べる子ども

(世界食糧計画ホームページにより作成)

4 涼太さんは、「船で結ばれた世界と日本」というテーマで調べたことをまとめ、発表した。次のパネルと資料は、そのときに使用したものの一部である。後の(1)～(6)の問いに答えなさい。

パネルⅠ 遣唐使船の様子




7世紀以降、日本は、唐の諸制度や文化を取り入れて新たな国づくりを目指しました。平安時代以降も遣唐使は派遣されましたが、9世紀末に停止されました。

資料Ⅰ

口分田を男に二段、女にはその三分二を与えよ。(中略)田は六年に一回与えよ。
(部分要約)

※段は土地の単位

パネルⅡ 明に派遣された船の様子




室町幕府は、明に朝貢する形の貿易を行いました。この貿易を通して、明から生糸・絹織物などが輸入され、日本からは銅や硫黄、刀が輸出されました。

資料Ⅱ 定期市の開催数


鎌倉時代：月3回
↓
室町時代：月6回
(応仁の乱以降)

パネルⅢ 南蛮船の様子




戦国時代の日本では、南蛮人との交流が盛んになりました。戦国大名の中には宣教師の布教活動を保護し、南蛮貿易で利益を上げる者があられました。

資料Ⅲ 堺の鉄砲鍛冶

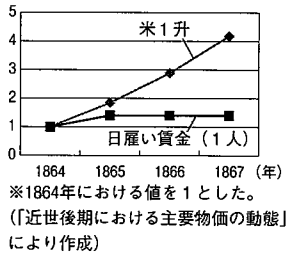


パネルⅣ 横浜に来航する外国船の様子



大老井伊直弼がアメリカと通商条約を結び、横浜などで貿易が開始されました。その後、イギリスに接近した薩摩藩が長州藩と結び、倒幕運動を展開しました。

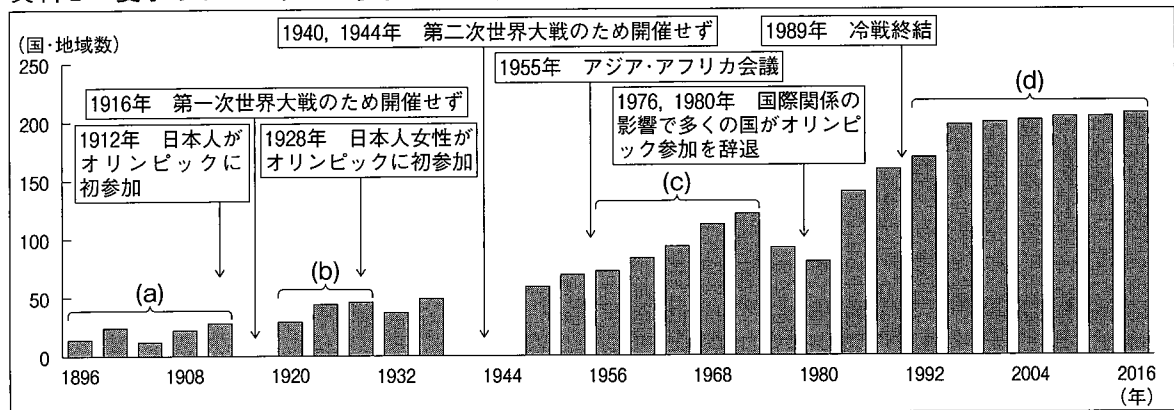
資料Ⅳ 江戸の物価と賃金



- (1) 下線部(a)について、資料Ⅰは唐の影響を受けて実施された制度である。この制度を何というか、書きなさい。
- (2) 下線部(b)に関して、平安時代に日本から唐に渡り、帰国して仏教の新しい教えを伝えた人物を、次のア～エから選びなさい。
ア 鑑真 イ 行基 ウ 最澄 エ 法然
- (3) 下線部(c)に関して、生糸と絹織物以外に日本が明から大量に輸入したものは何か、資料Ⅱを参考にして、書きなさい。
- (4) 下線部(d)について、南蛮貿易によってもたらされた鉄砲は、その後、戦国大名に広く行きわたるようになった。その理由を、資料Ⅲを参考にして、簡潔に書きなさい。
- (5) 下線部(e)の人物に関わる次のア～ウのできごとを、時代の古い順に並べなさい。
ア 安政の大獄 イ 桜田門外の変 ウ 日米修好通商条約の調印
- (6) 下線部(f)に関して、この時期に江戸などの都市では打ちこわしが発生した。打ちこわしが発生した理由を、資料Ⅳを参考にして、簡潔に書きなさい。

5 誠さんは、夏季オリンピックと関連した国内外の歴史について調べたことをまとめ、発表した。次の資料は、そのときに使用したものの一部である。後の(1)～(4)の問いに答えなさい。

資料Ⅰ 夏季オリンピックの参加国・地域数



(JOCホームページにより作成)

(1) 資料Ⅰの(a)の時期に、日本の国際的な地位が向上した。(a)の時期に起こった次のア～エのできごとを、時代の古い順に並べなさい。

- ア 日露戦争が開始された。
- イ ポーツマス条約を結んだ。
- ウ 日英同盟を結んだ。
- エ 関税自主権を完全に回復した。

(2) 誠さんは、資料Ⅰの(b)の時期について、資料Ⅱを示して、次のように説明した。[A]に当てはまる語句を書きなさい。また、[B]に当てはまる人物を、後のア～エから選びなさい。

資料Ⅱの背景として、第一次世界大戦が総力戦となったため、戦後の欧米諸国では人々の要求が高まり、[A]が求められたことがあげられます。日本でもこの時期、[B]などが中心となり、[A]を求める運動が本格化しました。

- ア 樋口一葉
- イ 野口英世
- ウ 美濃部達吉
- エ 平塚らいてう

(3) 誠さんは、資料Ⅰの(c)の時期の参加国・地域数の変化について、資料Ⅲを見つけた。(c)の時期に参加国・地域数が増加している理由として考えられることを、資料Ⅲを参考にして、書きなさい。

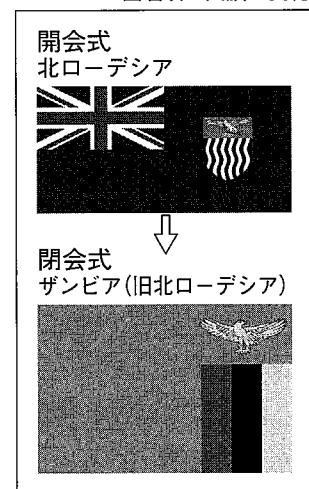
(4) 誠さんは、資料Ⅰの(d)の時期について、資料Ⅳを見つけ、国際連合の活動に興味を持った。日本は、世界各地で起こっている紛争に対する国際連合のどのような活動に参加しているか、資料Ⅴを参考にして、その活動名を書きなさい。

資料Ⅱ

年	オリンピックへの女性の参加数(人)
1920	65
1924	135
1928	277

(IOCホームページにより作成)

資料Ⅲ 東京オリンピック(1964年)における国名及び国旗の変化



資料Ⅳ 国連とオリンピック停戦

総会は1993年10月25日の決議により、オリンピック開会の7日前から閉会の7日後まで、加盟国に停戦を守るよう強く訴えました。(中略)オリンピック大会という、最大の国際的スポーツ・イベントに世界各地のアスリートたちを結集させ、平和の維持、相互理解、親善という、国連と共通する目標の推進を目指すものです。

(国際連合広報センターホームページにより作成)

資料Ⅴ 南スーダンで活動する自衛隊員



6 花子さんたちは、公民の学習で学んだことのまとめとして、「少子高齢化がもたらす影響」について調べ、発表した。次の発表メモと資料は、そのときに使用したものの一部である。後の(1)～(5)の問いに答えなさい。

発表メモⅠ【労働への影響】

働く人の数が減少していく中で、外国人も含めた多様な人材の活用が必要だとされています。一方で、厳しい労働環境におかれる外国人労働者もあり、労働者の権利の保障が課題になっています。^(a)

発表メモⅢ【社会保障への影響】

高齢者が増え、年金などの社会保障の支出が増加しており、今後もこのような傾向が続くと予想されています。そのため、社会保障支出と国民の負担の関係が、課題になっています。^(c)

発表メモⅡ【財政への影響】

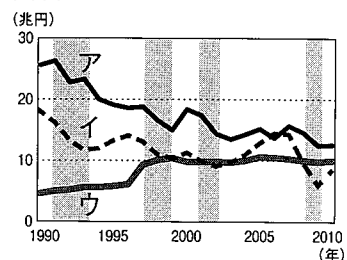
日本の歳入は、原則として税金によってまかなわれますが、税金の減少もあり、財政赤字が拡大しています。^(b)そのため、政府は「A」を発行しており、その累積額は増え続けています。

発表メモⅣ【家族の在り方への影響】

高度経済成長が始まった頃は、三世帯世帯が多く見られましたが、現在は家族の在り方も多様化してきています。そうした変化に伴い、子育てや介護などに課題が生じています。^(d)

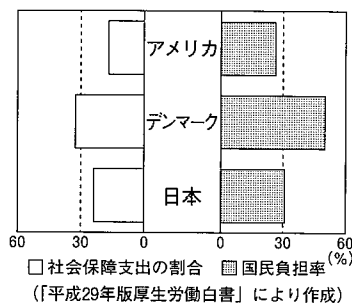
- (1) 「A」に当てはまる語を書きなさい。
- (2) 下線部(a)に関して、労働者の団結する権利を保障している法律を、次のア～ウから選びなさい。
ア 労働基準法 イ 労働組合法 ウ 労働関係調整法
- (3) 下線部(b)に関して、花子さんたちは、消費税、法人税、所得税の税金の推移を調べた。消費税を示すグラフとして適切なものを、資料Ⅰのア～ウから選びなさい。
- (4) 下線部(c)について、花子さんたちは社会保障支出について調べ、資料Ⅱを用いて発表した。資料Ⅱは、アメリカ、デンマーク、日本の国内総生産に占める社会保障支出の割合と国民負担率を示したものである。社会保障支出の割合と国民負担率にはどのような関係があるか、資料Ⅱを参考に、その傾向を簡潔に書きなさい。
- (5) 下線部(d)について、花子さんたちは、子育て支援の取組を示した資料Ⅲを見つけた。資料Ⅲのような取組を行っている理由を、資料Ⅳ、資料Ⅴを参考にしなさい。

資料Ⅰ



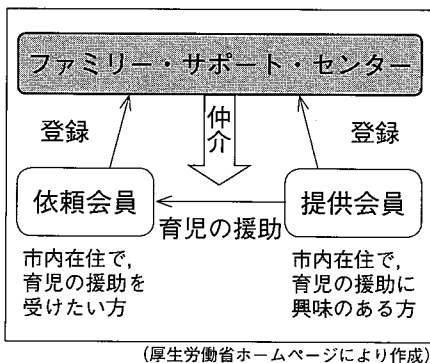
※グラフ背景の灰色の部分は、景気の後退期を示す。
(財務省、内閣府ホームページにより作成)

資料Ⅱ 社会保障支出の割合と国民負担率(2014年)



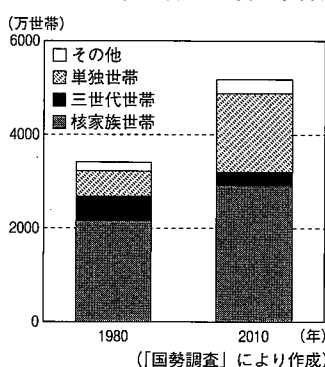
(「平成29年版厚生労働白書」により作成)

資料Ⅲ



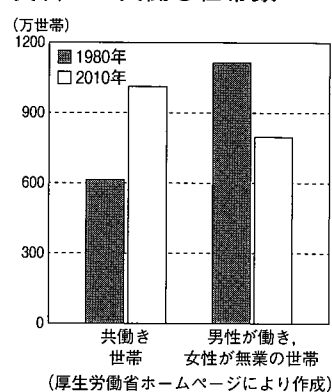
(厚生労働省ホームページにより作成)

資料Ⅳ 家族類型別世帯数



(「国勢調査」により作成)

資料Ⅴ 共働き世帯数



(厚生労働省ホームページにより作成)

7 太郎さんは、政治の学習のまとめとして、「議場の形」というテーマで調べ、発表した。次のカードと資料は、そのときに使用したものの一部である。後の(1)~(4)の問いに答えなさい。


カード1



特徴：多くの人に情報を伝達した上で、議決をする。

例：国会、国連総会など
(a) (b)

カード2



特徴：少人数で話し合いを行った上で、議決をする。

例：内閣が行う会議である
(c) 閣議など

カード3



特徴：立場を明確にして、話し合った上で、議決をする。

例：イギリスの議会、日本の一部の市町村議会など
(d)

(1) 下線部(a)について、衆議院のみで審議されるものを、次のア~エから選びなさい。

ア 予算案 イ 法律案 ウ 条約の承認 エ 内閣不信任の決議

(2) 下線部(b)に関して、資料Iに示された議案の可決に最低限必要な票数を書きなさい。ただし、193か国の全てが出席し投票するものとする。

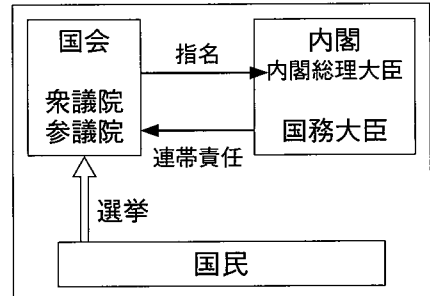
資料I 国連総会の議案

議案（通常議案）
『世界の水問題の解決について』
賛成 ○○票 } 193か国中
反対 ○○票 }

(3) 下線部(c)に関して、太郎さんは、資料IIを用いて、次のように説明した。[A]、[B]に当てはまる語を書きなさい。

資料II 議院内閣制のしくみ

閣議では政府の方針が決められます。資料IIのように、[A]は内閣総理大臣を国会議員の中から指名します。また、[B]の過半数は国会議員でなければならないとされています。議院内閣制の下では、内閣は[A]の意思を執行するしくみをとっています。



(4) 下線部(d)について、カード3にあるような対面式の議場を導入している市町村議会では、議場を対面式にすることで、首長と議会がそれぞれの立場を明確にして討論をすることを期待している。

資料III 地方自治のしくみ

首長と議会が、立場を明確にして討論をする必要があるのはどうしてか、資料IIIの首長と議会の関係に着目して、その理由を書きなさい。

