

令和3年度

群馬県公立高等学校

入学者選抜学力検査問題

社 会

(後期選抜)

— 注 意 事 項 —

- 1 「始めなさい。」の指示があるまで、問題用紙を開かないこと。
- 2 解答は、全て、解答用紙に記入すること。
- 3 「やめなさい。」の指示があったら、直ちに筆記用具を置き、問題用紙と解答用紙の両方を机の上に置くこと。
- 4 問題は、1ページから11ページまであります。
- 5 解答用紙の、の欄には何も書かないこと。

- 1 洋太さんは、地域学習のまとめとして、宮城県について調べ、発表した。次の図と資料は、そのときに使用したものの一部である。後の(1)～(5)の問いに答えなさい。

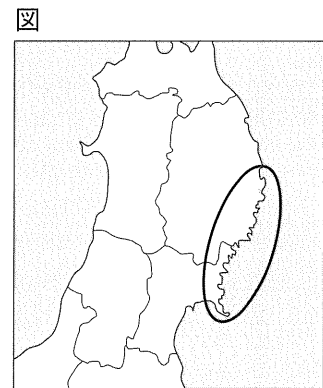
発表内容

宮城県は、東京都から北東約300キロメートルに位置しています。東側は太平洋に面し、石巻などの漁港があります。中央部には稲作地域である仙台平野が広がっており、西側には奥羽山脈が連なっています。宮城県の人口は、東北地方で唯一200万人を超えています。県庁所在地は、人口100万人を超える東北地方最大の都市である仙台市です。

現在、東北地方の中心的な役割を担う宮城県は、古代においても東北地方の重要な地点でした。近世に入ると、伊達政宗が仙台藩の基礎を築きました。戊辰戦争では、仙台藩は、会津藩などとともに旧幕府側で戦いました。近代では、宮城県出身の吉野作造の思想が、大正デモクラシーを支えました。

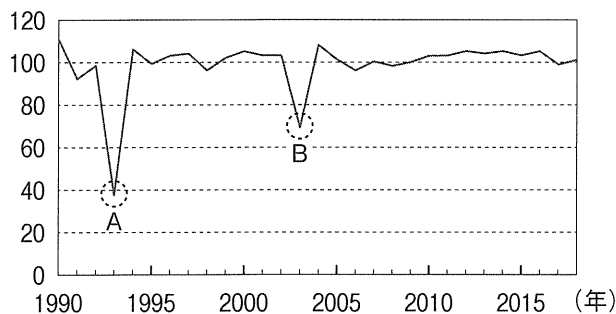
宮城県は、2011年の東日本大震災で大きな被害を受け、その後、復興が進められてきました。現在は、まちづくりのさまざまな取組が行われています。

- (1) 下線部(a)に関して、図の、三陸海岸の○で示した範囲には、狭い湾や入り江が複雑に入り組んだ海岸線が見られる。このような海岸を何というか、書きなさい。



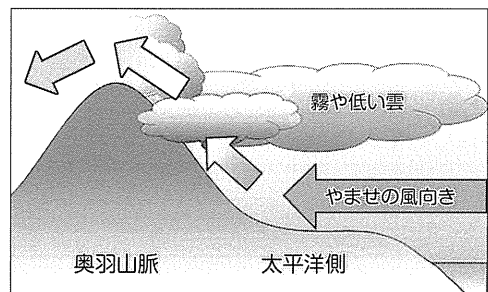
- (2) 下線部(b)に関して、洋太さんは、宮城県における米の収穫量に関する資料Ⅰを見つけた。資料ⅠのAとBで、収穫量が大きく落ち込んでいるのは、この地域特有の気候が影響したためだと考えられる。収穫量が落ち込んだ理由として考えられることを、資料Ⅱを踏まえて、簡潔に書きなさい。

資料Ⅰ 宮城県における米の作況指数の推移



※作況指数とは、平年の米の収穫量を100とした場合の米のとれ具合のこと。  
(農林水産省資料により作成)

資料Ⅱ



(仙台管区気象台ホームページにより作成)

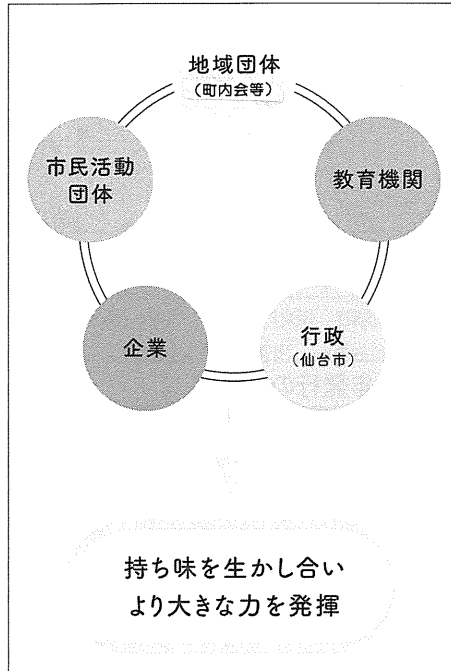
- (3) 下線部(c)について、奈良時代に現在の宮城県に設置された行政と軍事の拠点を、次のア～エから選びなさい。

ア 国分寺      イ 多賀城      ウ 大宰府      エ 安土城

- (4) 下線部(d)について、吉野作造の思想は、大日本帝国憲法の下で、民衆の意向を政治に反映させることを主張するものであった。吉野作造が唱えたこの思想を何というか、書きなさい。

- (5) 下線部(e)に関して、洋太さんは、仙台市のまちづくりについて説明するために、資料Ⅲ、資料Ⅳを作成した。仙台市は、どのようにしてまちづくりに取り組もうとしていると考えられるか、資料Ⅲ、資料Ⅳを参考にして、簡潔に書きなさい。

資料Ⅲ 仙台市が取り組もうとしているまちづくりの例



資料Ⅳ 資料Ⅲのような取組が必要とされる背景

仙台市では、近年、人口減少局面への移行や少子高齢化の進展により、地域課題があらわれてきています。さらに、地域コミュニティの希薄化もあって、単独の団体の力だけでは全ての課題に対応することが難しくなっています。

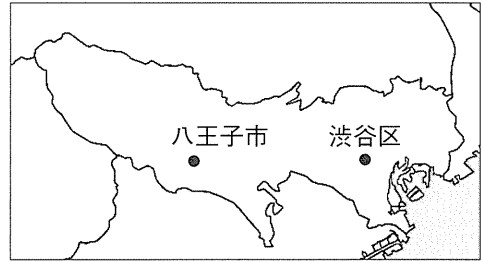
(資料Ⅲ、資料Ⅳは、仙台市ホームページにより作成)

2 勇樹さんは、祖父の住む東京都について調べたことをまとめ、発表した。次の図と資料は、そのときに使用したものの一部である。後の(1)～(4)の問いに答えなさい。

祖父からのメールの内容

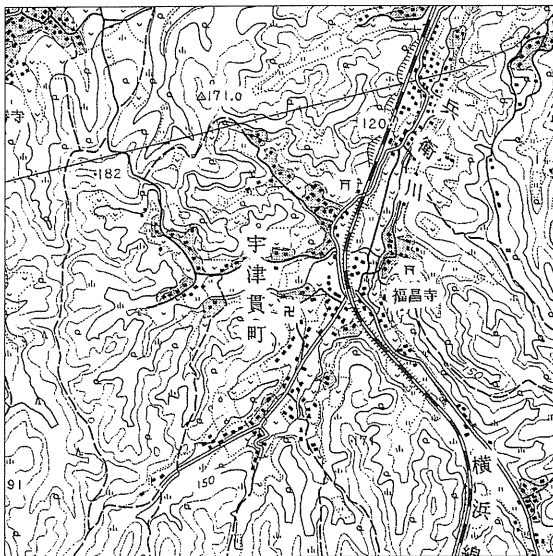
勇樹くん

おじいちゃんは、東京都八王子市に住んで40年になるよ。住み始めたときと比べて、まちの様子がずいぶん変わったよ。今も元気に仕事をしていて、今までと変わらず、東京都渋谷区の家まで電車で通勤しているよ。おじいちゃんの家には、東京都内からだけでなく、他の県から通勤している人も多いよ。

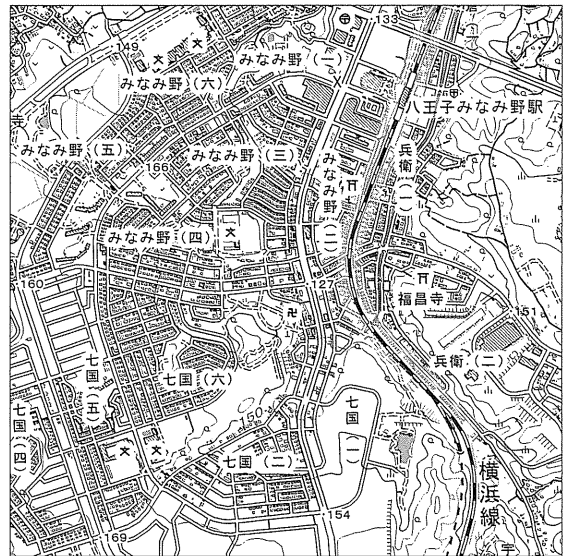


勇樹くんに頼まれた資料として、東京都全体の地図とおじいちゃんが住んでいる場所の地形図を送るから、参考にしてね。

図Ⅰ 1985年発行の地形図



図Ⅱ 2015年発行の地形図

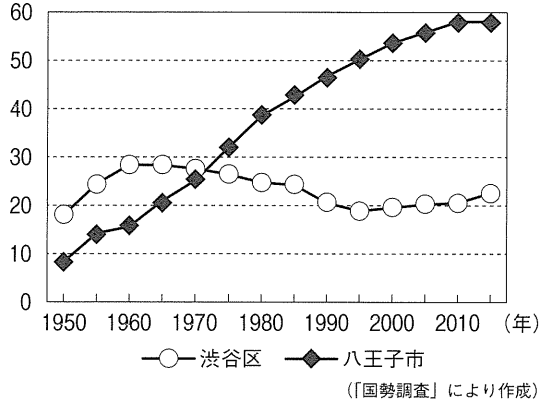


(国土地理院2万5千分の1地形図「八王子」1985年、2015年発行により作成)

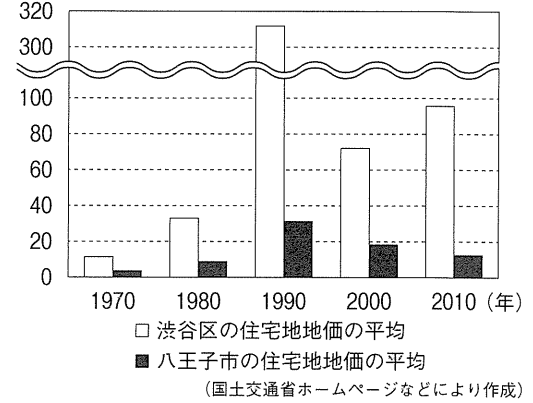
- (1) 勇樹さんは、東京都の郊外に位置する八王子市で、農業が盛んに行われていることを知った。このように、都市の消費者向けに、都市から距離の近い地域で野菜などの生産を行う農業を何とよいか、書きなさい。
- (2) 下線部(a)について、次の①、②の問いに答えなさい。
- ① 勇樹さんは、調べ学習の際に見つけた図Ⅰの八王子市の古い地形図と、図Ⅱの祖父から送られてきた八王子市の地形図を比較した。図Ⅰと図Ⅱの2つの地形図を比較して、分かることとして適切なものを、次のア～エから1つ選びなさい。
- ア 1985年の地形図と2015年の地形図では、小・中学校の数に変化はない。
- イ 1985年の地形図にあった神社は、2015年の地形図では全てなくなった。
- ウ 2015年の地形図では、1985年の地形図にはなかった「八王子みなみ野駅」がある。
- エ 2015年の地形図における「みなみ野(三)」の地域は、1985年の地形図では平地であった。

② 勇樹さんは、東京都の都心部と郊外の人口の変化について説明するため、渋谷区と八王子市について、資料Ⅰ、資料Ⅱを作成した。資料Ⅰが示すように八王子市の人口が増加した理由として考えられることを、資料Ⅱを踏まえて、簡潔に書きなさい。

資料Ⅰ 渋谷区と八王子市の人口の変化  
(万人)



資料Ⅱ 渋谷区と八王子市の地価  
(万円/m<sup>2</sup>)



(3) 下線部(b)について、勇樹さんは、東京23区への通勤・通学者数について調べ、資料Ⅲを見つけた。東京23区への通勤・通学者が多い上位5市には、昼間人口と夜間人口との関係にどのような共通点があるか、資料Ⅲから分かることを、簡潔に書きなさい。


資料Ⅲ 東京23区への通勤・通学者が多い上位5市と渋谷区、八王子市の、東京23区への通勤・通学者数と昼間人口、夜間人口(平成27年)

	東京23区への通勤・通学者数(人)	昼間人口(人)	夜間人口(人)
神奈川県横浜市	434,302	3,416,060	3,724,844
神奈川県川崎市	271,422	1,302,487	1,475,213
埼玉県さいたま市	174,087	1,175,579	1,263,979
千葉県市川市	108,777	395,940	481,732
千葉県船橋市	104,882	524,471	622,890
渋谷区	73,685	539,109	224,533
八王子市	42,812	576,240	577,513

〔平成27年国勢調査〕などにより作成

(4) 勇樹さんは、資料Ⅳの施設の運用が2020年8月から始まったことを知り、この施設の目的について調べ、発表した。勇樹さんの発表メモの□に当てはまる文を、施設の役割に着目して、簡潔に書きなさい。

資料Ⅳ 渋谷駅東口地下の施設



(東急株式会社ホームページにより作成)

発表メモ

都心部の地面は、アスファルトやコンクリートなどで覆われた部分が多く、雨水がしみこみにくいため、大雨が降ったときに浸水による被害が生じることがあります。この施設は、こうした被害を防ぐために、一時的に□という役割を持っています。

3 大悟さんは、オーストラリアについて調べたことをまとめ、発表した。次の図と資料は、そのときに使用したものの一部である。次の(1)~(3)の問いに答えなさい。

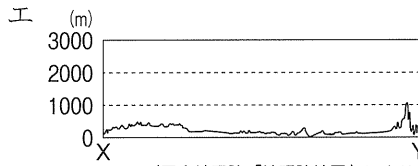
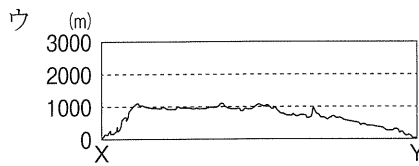
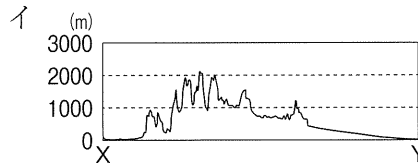

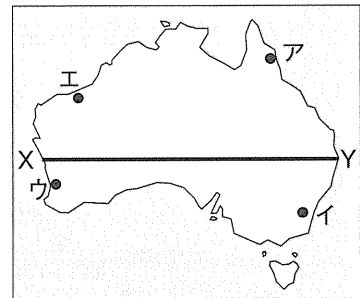
(1) オーストラリアの都市や地形について、次の①、②

の問いに答えなさい。

① オーストラリアの首都であるキャンベラの位置を、図中のア~エから選びなさい。

② 図中のX-Yの断面の模式図として最も適切なものを、次のア~エから選びなさい。

図



(国土地理院「地理院地図」により作成)

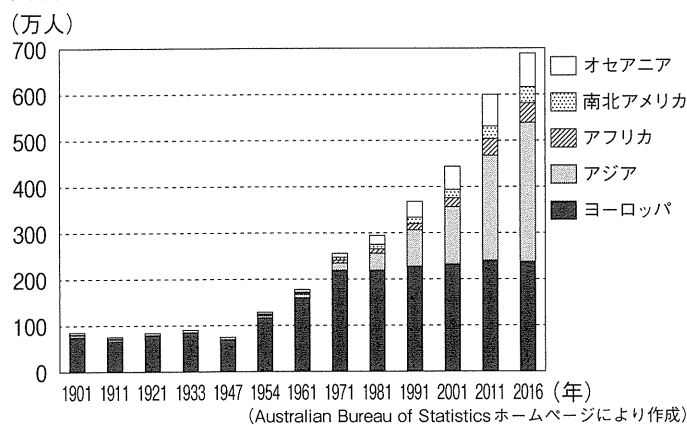
(2) 大悟さんは、オーストラリアに暮らす人々の歴史について、次の文章をまとめた。後の①、②の問いに答えなさい。

オーストラリアには、約4万年前から先住民が暮らしていました。18世紀後半から、植民地として支配されていたことがあります。1970年代まで、特定の地域以外からの移民を厳しく制限する  と呼ばれる政策が行われました。この政策が撤廃されてからは、  しました。

① 文章中の  に当てはまる語を書きなさい。また、  に当てはまる文を、資料Ⅰを参考にして、簡潔に書きなさい。

② 大悟さんは、現在のオーストラリアが築こうとしている社会について説明するために、資料Ⅱを作成した。オーストラリアはどのような社会を築こうとしているか、資料Ⅰ、資料Ⅱを参考にして、簡潔に書きなさい。

資料Ⅰ 外国生まれのオーストラリア人の出身地域



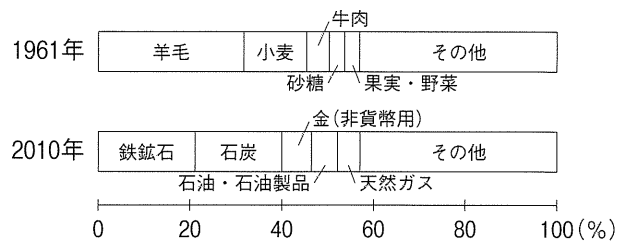
資料Ⅱ オーストラリアの取組

言語に関する国の政策によって、学校では、英語と英語以外の言語を教えています。英語以外の言語には日本語や中国語、フランス語やドイツ語などがあり、一人が複数の言語を学ぶことができます。

また、先住民の先住権が認められ、もともと住んでいた土地の所有権も認められるようになりました。

(3) 資料Ⅲ，資料Ⅳは，オーストラリアの輸出品目と貿易相手国について，1961年と2010年を比較して示したものである。1961年と2010年を比較して分かる，オーストラリアの輸出品目と貿易相手国の変化について，簡潔に書きなさい。

資料Ⅲ オーストラリアの輸出品目



資料Ⅳ オーストラリアの貿易相手国


	輸入		輸出	
	国名	割合(%)	国名	割合(%)
1961年	イギリス	31.3	イギリス	23.9
	アメリカ	20.0	日本	16.7
	西ドイツ	6.1	アメリカ	7.5
	日本	6.0	ニュージーランド	6.4
	カナダ	4.2	フランス	5.3
2010年	中国	18.7	中国	25.3
	アメリカ	11.1	日本	18.9
	日本	8.7	韓国	8.9
	シンガポール	5.1	インド	7.1
	ドイツ	5.0	アメリカ	4.0

(資料Ⅲ，資料Ⅳは「国際連合貿易統計年鑑」により作成)

4 美沙さんは、歴史の授業で学習した内容と群馬県との関連をまとめ、発表した。次のパネルと資料は、そのときに使用したものの一部である。後の(1)～(5)の問いに答えなさい。

パネル1

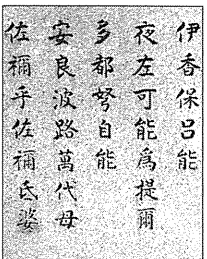
群馬県は、かつて13,000基を超える古墳がつくられていた日本有数の古墳大国です。特に、高崎市の綿貫観音山古墳の出土品は、日本の古墳時代の資料の中でも重要な資料で、2020年9月に国宝に指定されました。



【綿貫観音山古墳】

パネル2


榛名湖へ向かう道の途中で、伊香保をよんだ和歌の歌碑を見つけました。調べてみると、この和歌は奈良時代に大伴家持がまとめたとされる歌集に収録されていることが分かりました。この歌集には、榛名山と伊香保をよんだ和歌が、多く登場します。



【歌碑】

パネル3

現在の太田市付近を拠点としていた新田義貞は、足利尊氏や楠木正成とともに鎌倉幕府を倒しました。その後、を中心とする政権ができましたが、反旗をひるがえした足利尊氏が幕府を開き、武家政権を復活させました。



【上毛かるたの札】

パネル4

徳川綱吉は、江戸幕府の5代将軍に就任する前は館林藩主でした。将軍となった綱吉は朱子学を学ぶことを奨励するとともに、生類憐みの令を出しました。また、寺院建設や金銀の減少などによる幕府財政への影響を考慮して、貨幣を作り直しました。


著作権の関係により省略します。

【徳川綱吉】

(1) 下線部(a)について、次の①、②の問いに答えなさい。

- ① 資料Iは、綿貫観音山古墳の出土品である。この出土品のように、古墳時代につくられた、高温で焼かれたかたい土器を何というか、書きなさい。
- ② 美沙さんは、綿貫観音山古墳の出土品に関して資料IIを作成した。当時の日本と他の地域との関係について、資料IIから考えられることを、簡潔に書きなさい。

資料I



資料II 綿貫観音山古墳の出土品と他の地域から見つかった出土品の一部

【他の地域】



銅製の水瓶

著作権の関係により省略します。

馬具

【綿貫観音山古墳】



銅製の水瓶



馬具

(群馬県立歴史博物館ホームページなどにより作成)



(2) 下線部(b)について、この歌集で用いられている、日本語を書き表すための仮名を何と  
いうか、資料Ⅲを参考にして、書きなさい。

(3) パネル3の□に当てはまる人物を、次のア～エから選びなさい。

- ア 天智天皇                      イ 桓武天皇  
ウ 後白河天皇                      エ 後醍醐天皇

(4) 下線部(c)について、足利氏の幕府が続いていた時期を室町時代という。この時代に起きたア～ウのできごとを、時代の古い順に並べなさい。

- ア 応仁の乱                      イ 南北朝の統一                      ウ 戦国大名の登場

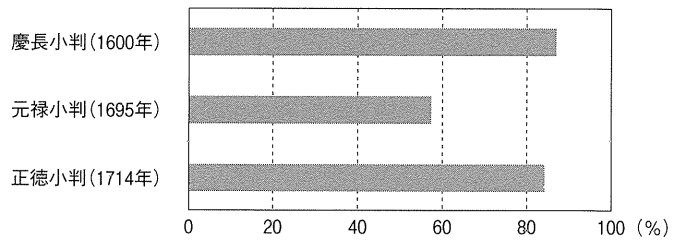
(5) 下線部(d)について、徳川綱吉の時代には、どのような小判が作られたか。資料Ⅳを参考にして、簡潔に書きなさい。

資料Ⅲ 歌碑によまれている和歌

に。 した らよ いだ ろう う	ま でに 寝 られ ざえ	うに、 人目 につ く	土手 に立 つ虹 のよ	伊香 保の 八尺 の	【現代語訳】	佐 禰平 佐 禰弓 婆	安 良波 路萬 代母	多 都努 自能	夜 左可 能為 提余	伊香 保呂 能
---------------------------------	--------------------------	----------------------	----------------------	---------------------	--------	-------------------------	---------------------	---------------	---------------------	---------------

(「群馬県史」などにより作成)

資料Ⅳ 小判に含まれる金の割合



※小判の重さはいずれも4.76匁である。(1匁は約3.75グラム。)

※ ( ) は使用開始の年を示す。

(「国史大辞典」により作成)

- 5 明さんは、明治時代以降の主なできごとと人々への影響について調べたことをまとめ、発表した。次の資料は、そのときに使用したもののものである。後の(1)~(5)の問いに答えなさい。

資料 I

主なできごと	人々への影響
1871年 廃藩置県を実施する。	新政府は財政を安定させるため、税制度の改革を実施しました。しかし、税の負担は江戸時代の年貢とほとんど変わらず、各地で地租改正に反対する一揆が起きました。
1873年 地租改正を実施する。→ <small>(a)</small>	
1894年 日清戦争が始まる。	戦費を調達するための増税により、国民の税負担は大きくなりました。ポーツマス条約で <small>□ A</small> ことがわかると、政府に対する国民の不満が高まり、日比谷焼き打ち事件などの暴動が起きました。
1904年 日露戦争が始まる。→	
1914年 第一次世界大戦が始まる。 ⇕ 【X】	
1925年 普通選挙法が成立する。→	この法律により、男子普通選挙が実現し、それまでより有権者が増加しました。また、同じ年に <small>□ B</small> 法が成立し、社会運動に対する取りしまりが強まりました。
1941年 太平洋戦争が始まる。	アメリカを中心とする48か国との間で結ばれたこの条約により、日本は独立を回復しました。しかし、国内にはアメリカの統治下に置かれる地域もありました。 <small>(b)</small>
1951年 サンフランシスコ平和条約が結ばれる。→	

- (1) 下線部(a)について述べた文として適切なものを、次のア~エから選びなさい。  
 ア 税率は毎年変化した。                                    イ 税を現金で納めさせた。  
 ウ 収穫高を基準にして税をかけた。                      エ 国が全ての土地を所有することとなった。
- (2) 資料 I の【X】の時期における、日本の様子と人々の生活について説明した文として適切なものを、次のア~エから選びなさい。  
 ア ノルマントン号事件が起こり、領事裁判権の廃止を求める世論が高まった。  
 イ シベリア出兵が決まり、商人が米を買い占め、米の値段が急激に上がった。  
 ウ 農地改革が行われ、政府が地主の農地を買い上げ、小作人に安く売り渡した。  
 エ 殖産興業政策の1つとして、新橋・横浜間に鉄道が開通し、多くの人や物資を運んだ。
- (3) 資料 I 中の □ A に当てはまる文を、資料 II を参考にして、書きなさい。
- (4) 資料 I 中の □ B に当てはまる語を、書きなさい。
- (5) 下線部(b)に関して、明さんは資料 III を見つけた。資料 III のような様子が見られる背景となったできごとを書きなさい。

資料 II 下関条約とポーツマス条約の主な内容

下関条約	ポーツマス条約
<ul style="list-style-type: none"> <li>●清が朝鮮の独立を認める。</li> <li>●日本が遼東半島・台湾などを獲得する。</li> <li>●日本が2億両の賠償金を得る。</li> </ul>	<ul style="list-style-type: none"> <li>●ロシアが韓国における日本の優越権を認める。</li> <li>●日本が旅順・大連の租借権や南樺太などを獲得する。</li> </ul>

資料 III ドルを円に交換するために並んでいる沖縄の人々（1972年）



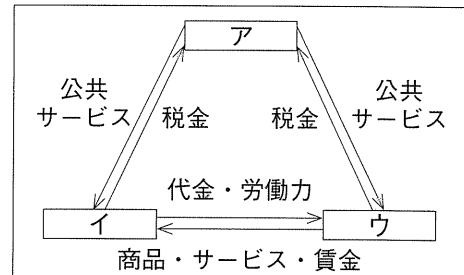
(那覇市歴史博物館ホームページより)

6 次の文は、「消費生活と経済」の学習のまとめの時間に、太郎さんの班で交わされた会話の一部である。後の(1)～(5)の問いに答えなさい。

太郎：私たちの消費生活は契約によって成り立っているよね。  
 絵美：契約をする上で、商品の価格は大切だね。企業が競争をすることで、私たちはより安く、品質が良い商品を買えるよね。それにより消費が拡大<sup>(a)</sup>することで景気も良くなると私は思うわ。  
 健太：そうだね。逆に企業間の競争が弱まると、消費者に不利益が生じるだけでなく、経済を停滞させることにもなりかねないよね。そのため、企業の健全な競争を促すために、法が制定されていて、公正取引委員会がその運用に当たっているよね。  
 太郎：それと消費者保護の授業では、消費者が売り手に対して不利な立場にあることが原因で、さまざまな消費者問題が生じていることを勉強したね。  
 絵美：この<sup>(c)</sup>ような状況の中で、2022年から成年年齢が引き下げられ、18歳になれば、親の同意を得ずに、一人で携帯電話を購入したり、クレジットカードを作ったりできるようになるんだよ。  
 健太：今後、私たちも消費生活において、<sup>(d)</sup>より責任ある行動が求められるようになるね。

- (1) 会話文中のに当てはまる語を書きなさい。  
 (2) 下線部(a)に関して、資料Ⅰのア～ウには「企業」、「家計」、「政府」のいずれかが入る。「企業」に当たるものとして適切なものを、資料Ⅰのア～ウから選びなさい。  
 (3) 下線部(b)に関して、太郎さんは政府の財政政策について、次のように説明した。次の文中のiに当てはまる語と、iiに当てはまる文の組み合わせとして適切なものを、後のア～エから選びなさい。

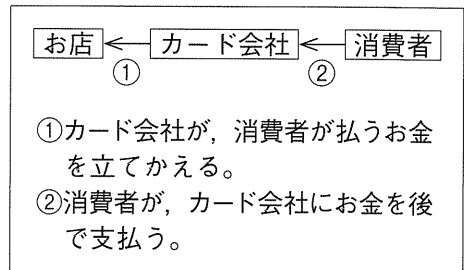
資料Ⅰ 経済の循環



政府が歳入や歳出を通じて、景気の回復を促したり、行きすぎを防止したりすることを財政政策という。一般的に、不景気のときには、景気の回復を促すために、政府はiを行い、企業や家計のii。

- ア i：増税 ii：消費を増やそうとする  
 イ i：増税 ii：消費を減らそうとする  
 ウ i：減税 ii：消費を増やそうとする  
 エ i：減税 ii：消費を減らそうとする

資料Ⅱ クレジットカード利用時のお金の流れ



- (4) 下線部(c)に関して、訪問販売などで消費者が契約をした場合、一定の期間内であれば、消費者が無条件で契約を取り消すことができる。この制度を何というか、書きなさい。  
 (5) 下線部(d)について、より良い消費生活を送るために、消費者がクレジットカードを利用する上で注意しなければならないことを、資料Ⅱ、資料Ⅲを踏まえて、簡潔に書きなさい。

資料Ⅲ クレジットカード利用者の声

私は20歳になったとき、クレジットカードを作りました。欲しいものを購入するときに、クレジットカードを利用すると、お金を使ったという実感をもちにくく、収入を考えず、無計画に使いすぎてしまいました。

7 花子さんは、「基本的人権と私たちの暮らし」というテーマで調べたことをまとめ、発表した。次のメモと資料は、そのときに使用したものの一部である。後の(1)～(4)の問いに答えなさい。

メモ1

自由権について

- ・自分の考えを表現できる。
- ・手続きなしに逮捕されない。
- ・職業を選ぶことができる。<sup>(a)</sup>

メモ2

社会権について

- ・医療を受けることができる。<sup>(b)</sup>
- ・教育を受けることができる。
- ・労働条件が守られる。

メモ3

権利を守るために

- ・政治に参加することができる。<sup>(c)</sup>
- ・署名活動をするができる。
- ・裁判を受けることができる。

メモ4

新しい人権について<sup>(d)</sup>

- ・自分の生き方を自由に決定できる。
- ・さまざまな情報の公開を求めることができる。

(1) 下線部(a)について、職業選択の自由は、どの自由に当てはまるか、次のア～ウから選びなさい。

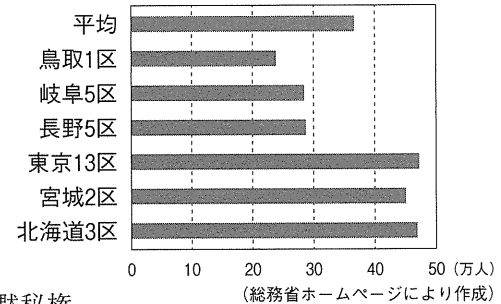
ア 精神の自由      イ 生命・身体の自由      ウ 経済活動の自由

(2) 下線部(b)に関して、医療保険の加入が国民に義務づけられている。医療保険のほかに、40歳になった時点で国民に加入が義務づけられる社会保険として適切なものを、次のア～エから選びなさい。

ア 介護保険      イ 労災保険      ウ 雇用保険      エ 年金保険

(3) 下線部(c)について、花子さんは、衆議院議員選挙の小選挙区制の課題について、資料Iを用いて発表した。資料Iから分かる、衆議院議員選挙の小選挙区制の課題について、簡潔に書きなさい。

資料I 小選挙区における議員一人当たりの有権者数(2019年)




(4) 下線部(d)について、次の①、②の問いに答えなさい。

① 資料IIのような状況を背景として提唱された権利を、次のア～エから選びなさい。

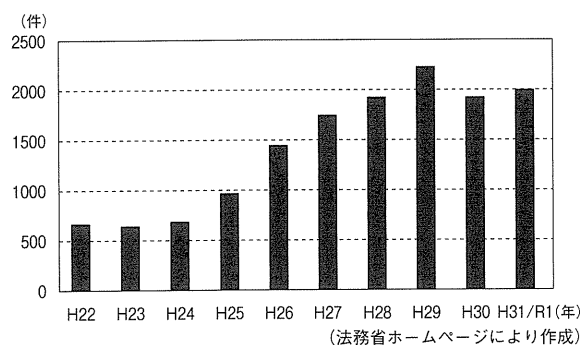
ア 肖像権      イ 請願権      ウ 日照権      エ 黙秘権

② 花子さんは、社会の変化に対応した新しい人権が提唱されていることに興味を持ち、資料IIIを見つけた。インターネットを利用する際に、自己的人権や他人の人権を守るために注意しなければならないことを、資料III、資料IVを参考にして、簡潔に書きなさい。




(国土交通省資料により作成)

資料III インターネットによる人権侵害件数



資料IV



(法務省ホームページより)