

令和 5 年度

群馬県公立高等学校

入学者選抜学力検査問題

社 会

(後期選抜)

— 注 意 事 項 —

- 1 「始めなさい。」の指示があるまで、問題用紙を開かないこと。
- 2 解答は、全て、解答用紙に記入すること。
- 3 「やめなさい。」の指示があったら、直ちに筆記用具を置き、問題用紙と解答用紙の両方を机の上に置くこと。
- 4 問題は、1 ページから11ページまであります。
- 5 解答用紙の、の欄には何も書かないこと。

- 1 太郎さんは、社会科学習のまとめとして、滋賀県の取組についてレポートにまとめ、発表した。次の図と資料はそのときに使用したものの一部である。後の(1)～(5)の問いに答えなさい。

レポート

〈テーマ〉…滋賀県^(a)～持続可能な都市づくりについて～
 〈テーマ設定の理由〉…群馬県では、持続可能な都市づくりを進めているところなので、滋賀県の事例を調べ、都市づくりについて考えるための参考にしたいから。
 〈滋賀県の持続可能な都市づくりについて調べた内容〉
 { 環境面における取組…淀川水系、水田などの保全・整備による豊かな自然を守る取組の実施
 文化面における取組…比叡山延暦寺、安土城跡^(b)などの歴史遺産の活用による観光客の誘致
 経済面における取組…交通の利便性をいかした産業の育成
 〈まとめ〉…滋賀県では、持続可能な都市づくりが積極的に行われていました。ニュースで、滋賀県の農林水産業の取組^(e)が世界農業遺産に認定されたことも知り、さらに興味を持ちました。滋賀県の事例を参考にして、私が住む群馬県の持続可能な都市づくりについて考えたいと思います。

- (1) 下線部(a)について、図中の湖は、滋賀県にある日本最大の湖である。この湖の名称を、次のア～エから1つ選びなさい。

- ア 霞ヶ浦 イ 諏訪湖
 ウ 琵琶湖 エ 猪苗代湖

- (2) 下線部(b)について、太郎さんは、資料Iを用いて滋賀県の環境保全活動について発表した。次の文中の□A、□Bに当てはまる語句の組み合わせとして適切なものを、後のア～エから選びなさい。

図 滋賀県の航空写真



(国土地理院ホームページにより作成)

滋賀県は、豊富な水資源に恵まれています。その資源によって□Aの人々の生活用水が供給されています。

1960年代以降、人口の増加や工場の増加によって、図中の湖に生活排水や工場排水が流れ込み、□Bが発生するようになりました。そこで、滋賀県の人々は協力して環境保全活動を行い、滋賀県は、全国に先駆けて資料Iの条例を制定することになりました。

資料I 滋賀県で制定された条例の一部

第17条 何人も、県内において「りん」を含む家庭用合成洗剤を使用してはならない。

第18条 販売業者は、県内において「りん」を含む家庭用合成洗剤を販売し、または供給してはならない。

(部分抜粋)

(滋賀県ホームページにより作成)

- ア A：大阪を中心とする都市圏 B：水俣病
 イ A：大阪を中心とする都市圏 B：赤潮
 ウ A：名古屋を中心とする都市圏 B：水俣病
 エ A：名古屋を中心とする都市圏 B：赤潮

(3) 下線部(c)について、太郎さんは、比叡山延暦寺に多くの観光客が訪れていることを知り、調べたことをまとめた。比叡山延暦寺で学んだ僧侶についての説明として適切なものを、次のア～エから1つ選びなさい。

- ア 道元は、一心に念仏を唱えることで救われると説いた。
- イ 親鸞は、おどり念仏によって、人々に念仏信仰を広めた。
- ウ 日蓮は、題目を唱えることで、人々も国も救われると説いた。
- エ 法然は、座禅によって自力で悟りを開こうとする教えを説いた。

(4) 下線部(d)について、太郎さんは織田信長との関係について調べ、資料Ⅱを見つけた。資料Ⅱは、織田信長によって安土城下で出された法令である。織田信長が、資料Ⅱの法令を出した目的を、簡潔に書きなさい。

資料Ⅱ

一 この安土の町は楽市としたのでいろいろな座は廃止し、さまざまな税や労役は免除する。
(部分要約)

(5) 下線部(e)について興味を持った太郎さんは、滋賀県の取組について調べたことをメモにまとめた。資料Ⅲはそのときに使用したものである。メモ中の□C□に当てはまる文を、書きなさい。

メモ

持続可能な社会を目指すためには、将来の世代と現在の世代の幸福を両立する視点が必要です。

資料Ⅲの取組事例には、将来の世代の幸福のために、環境保全に配慮する工夫と、現在の世代の幸福のために、□C□工夫が見られます。

資料Ⅲ 滋賀県の取組事例



魚のゆりかご水田米

※「魚のゆりかご水田米」の認証を受けたことを表す米のロゴマーク

滋賀県では、「魚のゆりかご水田プロジェクト」によって、水質汚染により絶滅の危機にあった水産資源を守るために、水田とその周辺に住む生き物が行き来できる魚道などの環境をつくり、農薬を制限するなど、「豊かな生き物を育む水田」の取組が行われています。

また、にない手不足や農業収益など、課題のあった水田を守るために、その水田でつくられた米を「魚のゆりかご水田米」としてブランド化し販売する取組も行われています。

(「滋賀の環境2021」により作成)

2 俊太さんは、「日本の諸地域の学習」において、中国・四国地方の自然環境や、産業と交通の関わりについて調べ、発表した。次のレポートと資料は、そのときに使用したものの一部である。後の(1)～(4)の問いに答えなさい。

レポート

「中国・四国地方について」

〈自然環境〉

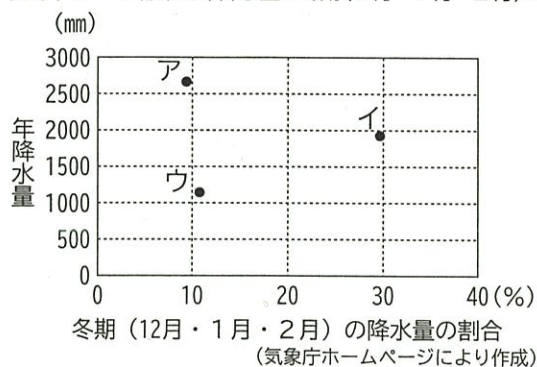
- 中国地方と四国地方には、ともに東西に連なる山地がある。
- 山陰、瀬戸内、南四国の3つの地域では、降水量に異なる特徴^(a)が見られる。

〈産業と交通の関わり〉

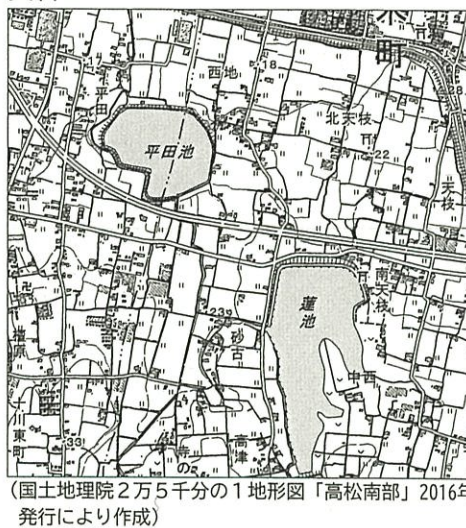
- 各地域の気候の特色に応じた農業が行われ、東京や大阪など^(b)の人口が多く消費量が多い地域へ農作物を出荷している。
- 海上交通の便がよく、工業が発達している県もある。
- 本州四国連絡橋の開通により、本州と四国の間を移動する人が増えた。^(c)
^(d)

図

資料Ⅰ 3都市の年降水量と冬期(12月・1月・2月)の降水量の割合



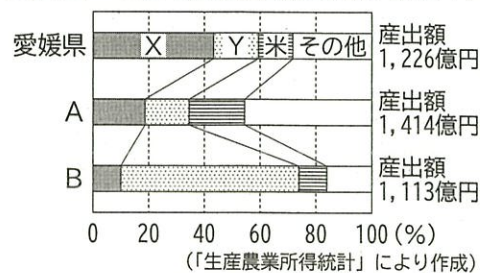
資料Ⅱ



(1) 下線部(a)に関して、次の①、②の問いに答えなさい。

- 俊太さんは、中国・四国地方の降水量について、資料Ⅰを作成した。資料Ⅰ中のア～ウは、鳥取市、岡山市、高知市のいずれかの年降水量と、年降水量に占める冬期(12月・1月・2月)の降水量の割合を示している。鳥取市に当たるものを、資料Ⅰ中のア～ウから1つ選びなさい。
- 俊太さんは、香川県高松市の地形図の一部を示した資料Ⅱを見つけた。資料Ⅱのように、高松市にため池がある理由を、高松市の気候と資料Ⅱから読み取れるこの地域の農業に着目して、簡潔に書きなさい。

資料Ⅲ 3県の農業産出額の内訳(2020年)



(2) 下線部(b)について、俊太さんは、愛媛県、岡山県、高知県の農業産出額の内訳を調べ、資料Ⅲを作成した。資料Ⅲ中のAとBは岡山県または高知県、資料Ⅲ中のXとYは果実または野菜のいずれかを示している。資料Ⅲ中のBとYの組み合わせとして適切なものを、次のア～エから選びなさい。

- | | | | | | |
|---|-------|------|---|-------|------|
| ア | B：岡山県 | Y：果実 | イ | B：岡山県 | Y：野菜 |
| ウ | B：高知県 | Y：果実 | エ | B：高知県 | Y：野菜 |

(3) 下線部(c)に関して、俊太さんは、島根県、広島県、山口県の主な業種別製造品の出荷額が示されている資料Ⅳを見つけた。資料Ⅳ中のア～ウは、島根県、広島県、山口県のいずれかを示している。山口県に当たるものを、資料Ⅳ中のア～ウから1つ選びなさい。

資料Ⅳ 3県の主な業種別製造品の出荷額 (2019年)

県名	食料品 (十億円)	化学工業 (十億円)	鉄鋼業 (十億円)	輸送用機械 (十億円)
ア	71	33	167	83
イ	221	1,978	621	1,182
ウ	652	434	1,187	3,257

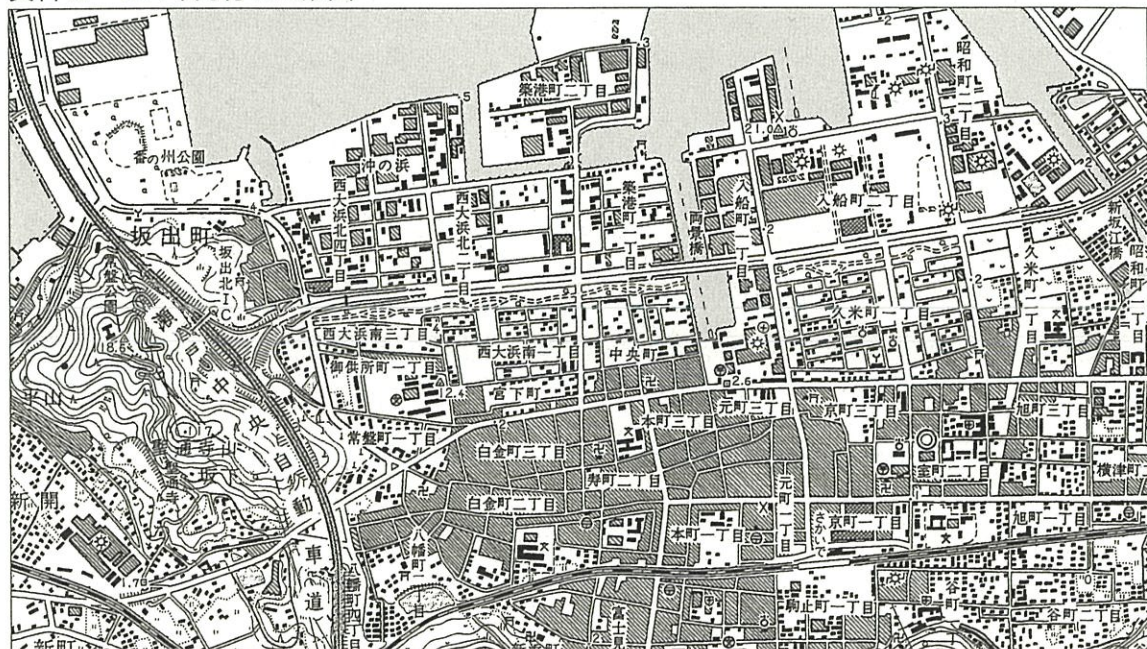
(経済産業省資料により作成)

(4) 下線部(d)に関して、俊太さんは、香川県坂出市の2種類の地形図を見つけた。資料Ⅴは瀬戸大橋が開通する前の1980年発行の地形図、資料Ⅵは瀬戸大橋が開通した後の1997年発行の地形図である。2つの地形図を比較し、瀬戸大橋の開通後、陸上の交通網はどのように変化したか、地形図から読み取れることを、簡潔に書きなさい。

資料Ⅴ 1980年発行の地形図



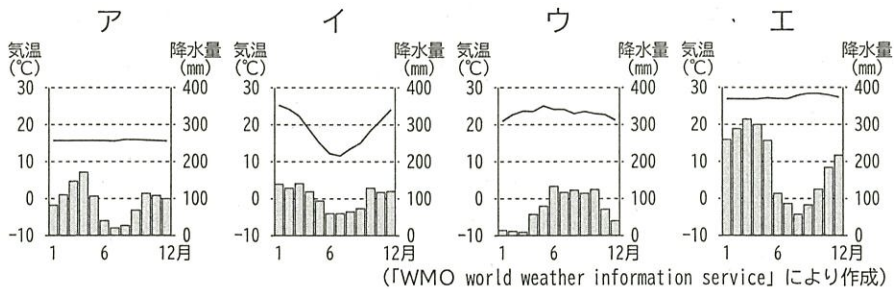
資料Ⅵ 1997年発行の地形図



(資料Ⅴ、資料Ⅵは、国土地理院2万5千分の1地形図「丸亀」1980年、1997年発行により作成)

3 結衣さんは、南アメリカ州について学習し、特にブラジルについて調べたことをまとめ、発表した。次の図と資料はそのときに使用したものの一部である。次の(1)~(3)の問いに答えなさい。

(1) 結衣さんは熱帯林がみられるマナオスの気候を調べた。次のア~エは、
 図中のいずれかの都市の気温と降水量のグラフである。マナオスに当たる
 ものを、次のア~エから1つ選びなさい。



(2) 結衣さんは、牧場や鉱山の開発が熱帯林の減少の要因の1つであることを学んだ。次の①、②の問いに答えなさい。

① 結衣さんは、ブラジルにおける農地開発について調べ、発表した。次の文中の□i□に当てはまる語として適切なものを、後のア~エから1つ選びなさい。

ブラジルでは、□i□肉の生産が盛んで、2020年において生産量は世界第2位です。しかし、□i□を飼育するための牧場は、多くが熱帯林を伐採して作られました。生産された肉は多くが輸出され利益を上げていますが、牧場の開発によって減少する熱帯林の保護が課題となっています。

ア 羊 イ 豚 ウ 牛 エ ヤギ

② 結衣さんは、日本がブラジルの鉱山から産出される資源を多く輸入していることを知り、資料Iを見つけた。□X□に当てはまる資源名を書きなさい。

資料I 日本における□X□の輸入相手国(2021年)
 カナダ6.3、その他



(3) ブラジルの産業について、次の①、②の問いに答えなさい。

① 結衣さんは、ブラジルの大規模農地ではサトウキビが多く生産されていることを知り、次のように説明した。次の文中の□ii□に当てはまる語を書きなさい。

サトウキビの生産量が多いのは、近年、サトウキビを原料としたバイオエタノールの生産が盛んなためです。バイオエタノールは、ブラジルではガソリンに混合して自動車の燃料に利用され、環境問題の1つである□ii□の対策のために需要が高まっています。

② 結衣さんは、ブラジルの大規模農地で栽培される作物の変化について、資料IIを用いて、次のように説明した。次の文中の□iii□に当てはまる文を書きなさい。

1970年頃のブラジルでは、コーヒー豆が主要な輸出品であり、コーヒー豆の価格に国内の経済が大きく左右される状況でした。しかし、近年、大豆や原油などさまざまなものを輸出するようになりました。

特に大豆は、広大な土地で資料IIのように□iii□ことで大量の収穫が可能となり、生産量も輸出量も大幅に増加しました。

資料II ブラジルでの大豆の収穫の様子



(農畜産業振興機構ホームページにより作成)

4 直子さんは、歴史学習のまとめとして、自分が興味を持ったできごとを調べてまとめ、発表した。次のカードと資料は、そのときに使用したものの一部である。後の(1)~(4)の問いに答えなさい。

カード1 飛鳥時代・奈良時代

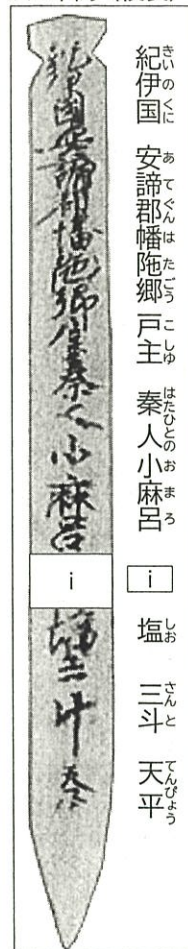
律令国家のしくみを定めた大宝律令がつくられ、成人男子にはさまざまな税や負担が課されました。それらは、大変重いものでした。

カード2 平安時代

漢字を書きくずし、日本語の発音を表現しやすくした【ii】文字がつけられました。そして、「源氏物語」など優れた文学作品が生まれました。

資料I

平城京跡から出土した木簡(複製)



カード3 鎌倉時代

後鳥羽上皇は、幕府を倒し朝廷の勢力を回復しようと、承久の乱を起しました。しかし、幕府軍に敗れ、隠岐国(島根県)に流されました。

カード4 江戸時代

徳川吉宗は、幕府の収入を増やすために、武士に質素・儉約を命じ、上げ米の制を定めました。こうした政策は、享保の改革と呼ばれました。

資料II 北条政子の訴え

…頼朝公が朝廷の敵を倒し、幕府を開いてから、官位や土地など、その【iii】は山より高く海よりも深い。この【iii】にむくいる心が浅くてよいはずがない。(部分要約)

(1) 下線部(a)に関して、資料I中の【i】に当てはまる税や負担として適切なものを、次のア~エから1つ選びなさい。

ア 調 イ 租 ウ 雑徭 エ 兵役

(2) カード2中の【ii】に当てはまる語を書きなさい。

(3) 下線部(b)について、次の①, ②の問いに答えなさい。

① 北条政子は、後鳥羽上皇が兵を挙げると、鎌倉幕府を守るために、御家人たちに結束を呼びかけた。

資料II中の【iii】に当てはまる語を書きなさい。

② 直子さんは、承久の乱後における鎌倉幕府の政治と支配について、次のように説明した。次の文中の【iv】, 【v】に当てはまる語の組み合わせとして適切なものを、後のア~エから選びなさい。

幕府は京都に【iv】において、朝廷を監視しました。また、上皇側に味方した貴族や武士から取り上げた土地を【v】に与え、幕府の支配を固めました。

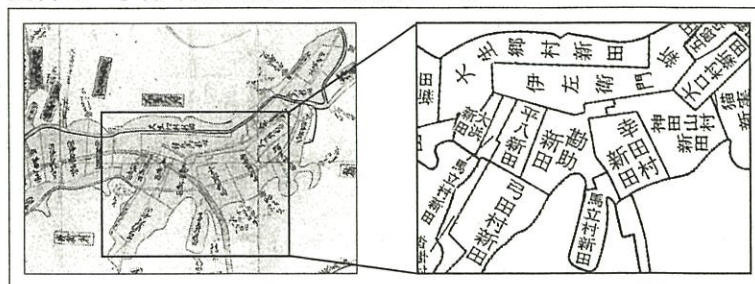
ア iv: 京都所司代 v: 東国の武士 イ iv: 六波羅探題 v: 東国の武士

ウ iv: 京都所司代 v: 西国の武士 エ iv: 六波羅探題 v: 西国の武士

※木簡の右の文字は、木簡に書かれている文字を示している。
※「紀伊国安曇郡幡施郷」は、現在の和歌山県有田市付近にあたる。
※「斗」は、塩の量の単位である。
(和歌山県立博物館ホームページにより作成)

(4) 下線部(c)について、幕府は 資料III 享保年間に描かれた絵図の一部

収入を増やすために、カード4で示されている内容の他にどのような政策を行ったか、資料IIIを参考にして、簡潔に書きなさい。



(坂東郷土館ミュージズ資料により作成)

5 七美さんは、近現代における世界の情勢と、これに影響を受けた日本の情勢について時代別にまとめ、発表した。次の資料は、そのときに使用したものの一部である。後の(1)~(4)の問いに答えなさい。

資料 I

世界の情勢	時代	世界の情勢に影響を受けた日本の情勢
19世紀になると、産業革命が欧米各国に広まり、人々が国民として1つにまとまる近代的な国家が建設されました。	明治	欧米諸国のような近代的な国家をつくることを目指し、その土台となる <u>欧米の文化</u> ^(a) や思想などを取り入れました。
1919年にパリで講和会議が開かれ、 <input type="checkbox"/> X条約が結ばれたことにより、第一次世界大戦は終結しました。	大正	日本は1921年から翌年にかけて行われたワシントン会議に参加し、日本外交の中心 ^(b) であった日英同盟を解消しました。
<input type="checkbox"/> Yがポーランドに侵攻したことにより、イギリスとフランスが <input type="checkbox"/> Yに宣戦布告し、第二次世界大戦が始まりました。	昭和	敗戦後、日本政府は連合軍総司令部(GHQ) ^(c) の指示を受けて、非軍事化・民主化のためのさまざまな改革を行いました。


(1) 資料 I 中のXに当てはまる語と、Yに当てはまる国名を、それぞれ書きなさい。

(2) 下線部(a)について、七美さんは資料 II を用いて次のように発表した。文中のi、iiに当てはまる語の組み合わせとして適切なものを、後のア~エから選びなさい。

iは、フランスの人権思想家であるルソーの考えを紹介しました。iiは、「自由」や「権利」などといった欧米の思想を日本に広める上で、大きな役割を果たしたと言えます。資料 II のように国会開設を求める動きなどはiiと呼ばれ、iの影響を大きく受けていると言われています。

- ア i : 田中正造 ii : 護憲運動
- イ i : 田中正造 ii : 自由民権運動
- ウ i : 中江兆民 ii : 護憲運動
- エ i : 中江兆民 ii : 自由民権運動

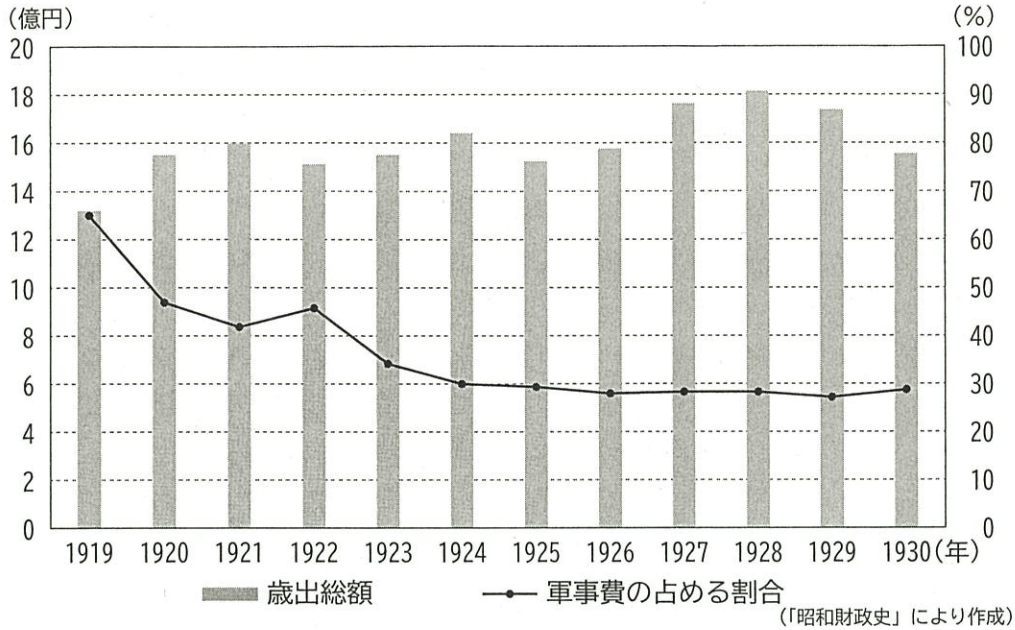
資料 II 国会開設を求める演説会の様子



(近代日本法政史料センター資料より)

- (3) 下線部(b)に関して、七美さんは、第一次世界大戦後の日本の外交について興味を持ち、資料Ⅲを見つけた。第一次世界大戦後、資料Ⅲのように、日本の軍事費が変化したのはどうしてか、当時の国際情勢に着目して、その理由を簡潔に書きなさい。

資料Ⅲ 日本の歳出総額と軍事費の占める割合



- (4) 下線部(c)について、日本政府が第二次世界大戦後に連合国軍総司令部(GHQ)の指示を受け、実施したものとして適切なものを、次のア～オから全て選びなさい。

- ア 財閥の解体を行った。
- イ 労働条件の最低基準を定める労働基準法を制定した。
- ウ 満6歳以上の子どもに教育を受けさせる学制を發布した。
- エ 満25歳以上の男性に選挙権を与える普通選挙法を制定した。
- オ 地主から農地を強制的に買い上げ、小作人に安く売り渡した。

- 6 涼太さんのクラスでは、「私たちの暮らしと経済」の学習において、県内の食品販売会社の社長に聞き取り調査を行った。次の会話文は、聞き取り調査後に、涼太さんの班で交わされたものの一部である。後の(1)～(5)の間に答えなさい。

会話文

涼太：社長さんは、お客さんに満足してもらえるような商品を提供できるように努力をしていることや、企業の社会的責任を果たす必要もあるということをお話していたよね。

悠人：企業がより良い商品を世の中に供給すると、社会全体の発展にもつながるから、とてもいいよね。

由美：でも、どんなに良い商品だとしても、消費者に商品を買う金銭的な余裕がないとね。

悠人：その点でいうと、消費税などの税金も少しずつ上がっているから大変だと、家でも話題になっていたよ。

涼太：消費税が上がると、消費者は支出を減らすだろうから、景気が悪くなりそうだね。

由美：そういえばニュースで、日本の景気を良くするための金融政策について取り上げているのを見たよ。企業のためにも、景気が良くなるといいよね。

悠人：社長さんもそのようなことを言っていたね。でも、日本国内の市場だけに目を向けるのではなく、海外の市場にも積極的にチャレンジしているとも言っていたよね。

涼太：外国と取り引きを行う企業って、大企業だけだと思っていたよ。

由美：今はインターネットの整備もされて、経営規模の大小にかかわらず、国内外でいろいろな流通経路を活用することができるということだよ。

- (1) 下線部(a)について、企業の社会的責任の例として適切なものを、次のア～エから全て選びなさい。
- ア 災害が発生した際に、被災地の救援活動に協力をする。
 - イ 職場環境を整備して、従業員が健康的に働けるように努める。
 - ウ 法律で定められた労働時間よりも長く従業員を働かせて、より多くの商品を生産する。
 - エ 企業への信頼を失わないようにするために、商品の欠陥などの情報を公開しないようにする。
- (2) 下線部(b)に関して、悠人さんは税金の特徴と分類について、資料Iを作成した。資料I中のWとZに当てはまる、カードの組み合わせとして適切なものを、後のア～エから選びなさい。

資料I

	特徴	分類
消費税	W	Y
所得税	X	Z

- ア W：カード1 Z：カード3
- イ W：カード1 Z：カード4
- ウ W：カード2 Z：カード3
- エ W：カード2 Z：カード4

カード1	所得が高い人ほど所得に占める税金の割合が高くなる特徴を持つ。
カード2	所得が低い人ほど所得に占める税金の割合が高くなる特徴を持つ。
カード3	税金を納める人と税金を負担する人が同じであり、直接税に分類される。
カード4	税金を納める人と税金を負担する人が異なり、間接税に分類される。

(3) 下線部(c)について、景気が悪いときに行う金融政策として最も適切なものを、次のア～エから1つ選びなさい。

- ア 日本銀行が、一般の銀行に国債などを売り、世の中に出回る通貨量を減らす。
- イ 日本銀行が、一般の銀行から国債などを買い、世の中に出回る通貨量を増やす。
- ウ 日本政府が、公共事業（公共投資）を増やして、民間企業の仕事を増やす。
- エ 日本政府が、公共事業（公共投資）を減らして、民間企業の仕事を減らす。

(4) 下線部(d)に関して、涼太さんは貿易と為替の関係について、次のようにまとめた。文中の□ i □，□ ii □ に当てはまる語の組み合わせとして適切なものを、後のア～エから選びなさい。

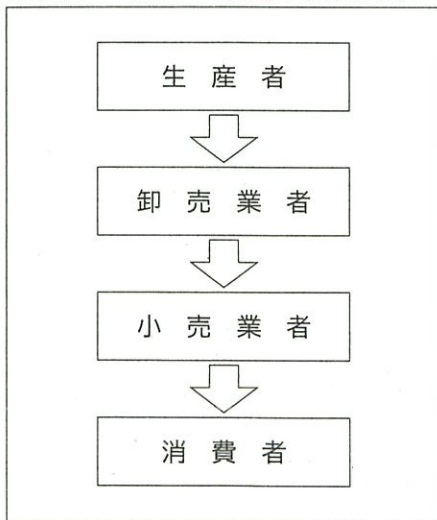
為替相場の変動によって、貿易にどのような影響があるのでしょうか。
例えば、日本のある企業が調味料をアメリカに輸出する場合を考えてみることにします。
1ドル=100円であるときと比べて、1ドル=120円の□ i □ になると、同じ調味料でも、ドルでの価格が□ ii □ し、輸出しやすくなると考えられます。

- ア i : 円高 ii : 上昇 イ i : 円高 ii : 下落
- ウ i : 円安 ii : 下落 エ i : 円安 ii : 上昇

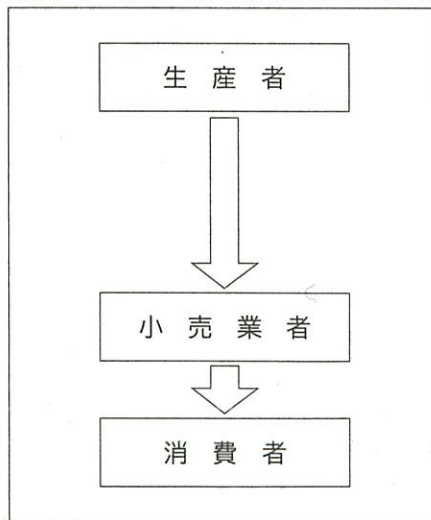
(5) 下線部(e)について、由美さんは、多様化する流通経路について、資料Ⅱと資料Ⅲを用いて、次のように説明した。文中の□ iii □ に当てはまる文を、「費用」という語を用いて、書きなさい。

商品の流通経路は、資料Ⅱのようなものが一般的です。しかし、調査をした食品販売会社では、資料Ⅲのような流通経路をとることで、より安い価格で消費者に商品を販売することができています。その理由は、資料Ⅲでは資料Ⅱと比べて、調査をした食品販売会社のような小売業者が□ iii □ からです。

資料Ⅱ 商品の一般的な流通経路



資料Ⅲ 調査をした食品販売会社の商品の流通経路



7 明さんのクラスでは、政治の学習のまとめとして、班ごとにテーマを決めて調べた内容を、発表した。次のカードと資料は、そのときに使用したものの一部である。後の(1)~(4)の問いに答えなさい。

A班のカード【情報化】

現在、あと略称される情報通信技術が急速に発達しています。そのため、私たちは、情報を正しく活用する力であるいを身に付けることが大切です。

B班のカード【成年年齢の引き下げ】

2018年6月、国会で民法が改正され、2022年(a)4月から成年年齢が20歳から18歳に引き下げられました。成年年齢の引き下げは、私たちの生活にもさまざまな影響を与えます。

C班のカード【政権公約(マニフェスト)】

選挙のとき多くの政党は、政権を取ったときに実施する予定の政策などを記した政権公約(マニフェスト)を発表します。各党の公約を(b)比べることで、人々は投票先を選びやすくなります。

D班のカード【国会】

国会は二院制が採られ、衆議院(465名)と参議院(248名)の2つの議院で構成されています。国会の仕事には、法律の制定や予算の議決、条約の承認、(c)内閣総理大臣の指名などがあります。

(1) A班のカード中のあ、いに当てはまる語の組み合わせとして適切なものを、次のア~エから選びなさい。

- ア あ：SNS い：情報リテラシー イ あ：SNS い：人工知能
ウ あ：ICT い：情報リテラシー エ あ：ICT い：人工知能

(2) 下線部(a)に関して、B班は、成年年齢が引き下げられたことによる変化について調べ、発表した。2022年4月以降、日本国民が18歳になれば親権者の同意がなくてもできるようになったこととして適切なものを、次のア~エから1つ選びなさい。

- ア 働いて賃金を得ること。
イ クレジットカードを作ること。
ウ 都道府県の知事選挙に立候補すること。
エ 市町村議会の議員選挙に立候補すること。

(3) 下線部(b)に関して、C班は資料Iを作成し、資料Iで示した架空の政党の政権公約(マニフェスト)は「大きな政府」の考え方に基づいていると発表した。資料I中の()に当てはまる文として適切なものを、次のア~エから2つ選びなさい。

- ア 減税政策を実施する。
イ 公共事業を拡大する。
ウ 国家公務員を削減する。
エ 大学の授業料を無償にする。

資料I 架空の政党の政権公約(マニフェスト)

社会保障制度を拡充する。

(4) 下線部(c)について、D班は資料IIを作成し、次のように説明した。D班が説明した内容の(i)に当てはまるものを、資料IIを踏まえて、後のア~ウから1つ選びなさい。また、(ii)に当てはまる文を、「議決」という語を用いて、書きなさい。

資料IIは、内閣総理大臣の指名についての衆議院と参議院での架空の投票結果です。この投票結果に基づいて、衆議院と参議院が異なる国会議員を指名し、両院協議会を開いても意見が一致しなかった場合、内閣総理大臣に指名される議員は、(i)です。その理由は(ii)からです。

資料II

	X議員	Y議員	Z議員
衆議院	155票	235票	75票
参議院	150票	57票	41票

- ア X議員 イ Y議員 ウ Z議員