

令和 8 年度

群馬県公立高等学校

入学者選抜学力検査問題

社 会

注 意 事 項

- 1 検査開始の指示があるまで、問題用紙を開かないこと。
- 2 解答は、解答用紙の決められた枠の中に、はっきりと記入すること。
- 3 検査終了の指示があったら、直ちに筆記用具を置き、問題用紙と解答用紙の両方を机の上に置くこと。
- 4 問題は、1 ページから14ページまであります。

1 夏希さんと健二さんは、社会科学習のまとめとして、「持続可能なまちづくりに向けた日本各地の取組」というテーマで、調べたことをまとめ、発表した。次のカード、図、資料は、そのときに使用したもの的一部である。後の(1)~(4)の問いに答えなさい。

カードA

自然環境の保護について
鹿児島県屋久島町では、地域の自然環境を守るため、 <u>屋久島</u> を訪れる人に自然の素晴らしさを体験してもら <u>う</u> エコツーリズムが行われています。

カードB

歴史と文化の継承について
福井県永平寺町では、 <u>鎌倉時代</u> に建てられた永平寺境内にある重要文化財を3Dデータとして保存し、後世に残すための取組が行われています。

カードC

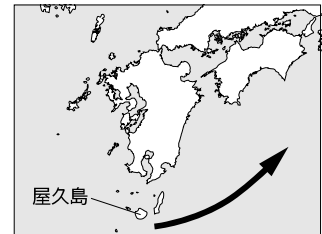
地域資源の活用について
長野県塩尻市では、昼夜の気温差などを生かした <u>果樹栽培</u> や、ひのきなどの森林資源を用いた漆器の生産が盛んに行われ、地域の経済を支えています。

カードD

誰一人取り残さない社会の実現について
香川県小豆島町では、医療のICT化や観光地のバリアフリー化などを進めることで、 <u>誰一人取り残さない社会の実現</u> を目指しています。

(1) 下線部(a)に関して、夏希さんは、屋久島がある九州地方の気候について、次のようにまとめた。文中の□i□に当てはまる海流の名称を書きなさい。

九州地方の気候が冬でも比較的温暖である理由の1つとして、図中の→で示した位置を流れる□i□の影響が挙げられます。また、屋久島より南の島々では、サンゴ礁が発達しており、その保全活動が進められています。



(2) 下線部(b)に関して、次の①、②の問いに答えなさい。

① 健二さんは、鎌倉時代の宗教や文化について調べる中で、資料Iと資料IIを見つけた。それぞれの資料について述べた次のX、Yの正誤の組み合わせとして適切なものを、後のア~エから選びなさい。

資料I

著作権の関係により省略します。

X 資料Iは、道元らが宋から伝えた、座禅によって悟りを得る禅宗の信仰の様子を描いている。

Y 資料IIは、平家一族の繁栄から滅亡までを描いた作品の冒頭部分であり、琵琶法師によって語り伝えられた。

資料II

祇園精舎の鐘の声、
諸行無常の響きあり。
沙羅双樹の花の色、
盛者必衰のことわり
をあらわす。
(部分要約)

ア 【X：正 Y：正】 イ 【X：正 Y：誤】

ウ 【X：誤 Y：正】 エ 【X：誤 Y：誤】

② 鎌倉幕府が滅んだ後の後醍醐天皇の政治(建武の新政)は、わずか2年ほどで終わりを迎えた。建武の新政が終わった背景として適切なものを、次のア~エから1つ選びなさい。

ア これまでの武士のしきたりを重視したことで、貴族を中心に不満が高まっていった。

イ 外国からの侵攻を朝廷が食い止めることができず、朝廷の権力がしだいに失われていった。

ウ 日本各地の戦国大名が勢力争いをくり広げていく中で、朝廷の権力がしだいに失われていった。

エ 天皇に権力を集めて、天皇中心の新しい政治を行ったことで、武士を中心に不満が高まっていった。

- (3) 下線部(c)に関して、夏希さんは、西洋なしが長野県で栽培されていることを知り、資料Ⅲを作成した。次の会話文は、資料Ⅲをもとに、夏希さんが健二さんと交わしたものの一部である。資料Ⅲ中と会話文中の 、 には、それぞれに共通した県名が当てはまる。その県名の組み合わせとして適切なものを、後のア～エから選びなさい。

会話文

夏希： 県では、西洋なしのほかにもぶどうの栽培も盛んに行われているよね。

健二：そうだね。豊かな土壌や水はけの良さなどが果樹栽培に適しているんだよ。

夏希： 県は、西洋なしだけでなく、将棋の駒の生産量も日本一なんだよね。ここで生産されている将棋の駒には、国の伝統工芸品に指定されているものもあるって祖父から聞いたよ。

健二：その地域の風土や古くから受け継がれた技術を生かした地場産業や伝統産業が盛んな地域は、ほかにもあるよ。例えば、 県では、スプーンなどの金属製品の生産が盛んだよ。

夏希： 県は、日本有数の米どころとして有名だから、稲作が盛んなイメージが強かったけど、地場産業も盛んなんだね。

資料Ⅲ 西洋なしの生産量の都道府県別割合(2024年)

都道府県名	割合(%)
<input type="text" value="ii"/> 県	70.1
青森県	7.0
<input type="text" value="iii"/> 県	6.4
長野県	4.3
その他	12.2

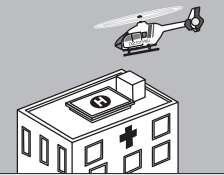

(農林水産省ホームページにより作成)

- ア ii：山梨 iii：秋田 イ ii：山梨 iii：新潟
ウ ii：山形 iii：秋田 エ ii：山形 iii：新潟

- (4) 下線部(d)に関して、健二さんは、香川県の取組について調べ、次のようにまとめた。文中の に当てはまる文を、資料Ⅳを参考に、「医療サービス」という語を用いて、簡潔に書きなさい。

グローバル化や情報化が進み、少子高齢化も進行する中で、日本は多様な人々がともに暮らす社会へと変化しています。こうした変化に向き合い、誰もが安心して生活できる環境を整えるためには、社会全体に支援や配慮を行き渡らせ、住民一人ひとりを支える体制を築いていくことが大切です。例えば、資料Ⅳの香川県における取組①と取組②は、ともに、 という点で、誰一人取り残さない社会の実現につながることで期待できます。


資料Ⅳ 香川県における取組

取組① ドクターヘリの運行		香川県では、ドクターヘリ(救急医療用ヘリコプター)の運行が開始されています。救急要請から5分以内で離陸し、県内のどの地域であっても高松市にある拠点病院から15分以内に到着することが可能になりました。
取組② クラウド型電子カルテの導入		香川県の病院では、クラウド型電子カルテの導入が進められています。導入された病院では、インターネット上で診療記録を保存・管理することで、離れた場所にある病院との間で診療情報の共有が可能になりました。

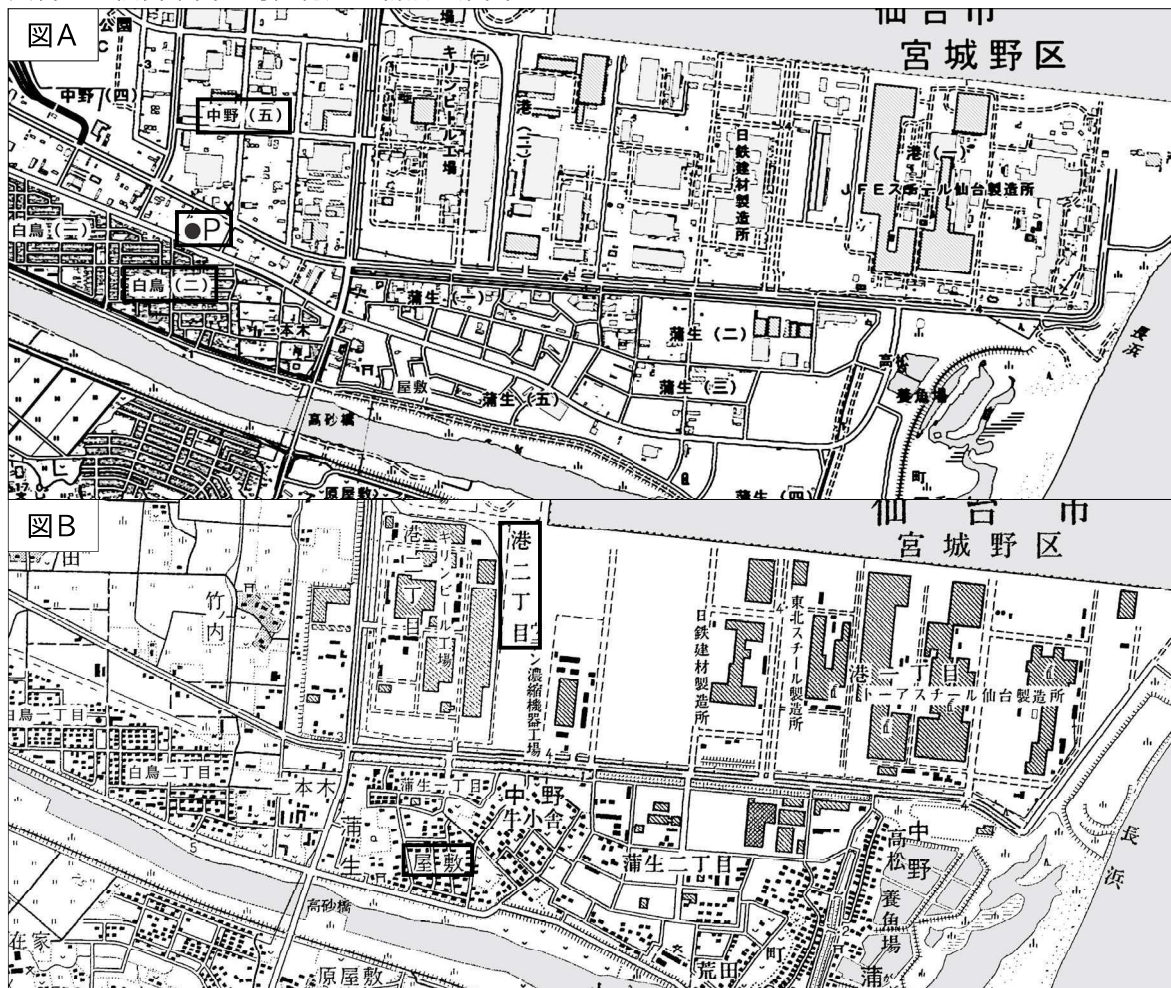
(香川県ホームページにより作成)

2 陽一さんの班では、東日本大震災からの復興が進む町の様子や住民の暮らしを調べるため、宮城県仙台市宮城野区を対象に地域調査を行うことにした。次の資料は、そのときに作成したものの一部である。後の(1)~(4)の問いに答えなさい。

資料Ⅰ 陽一さんの班が作成した調査計画書

<p>【調査テーマ】 復興が進む仙台市宮城野区の地域の様子</p> <p>【調査テーマに対する仮説】</p> <ul style="list-style-type: none"> ・沿岸部に防災施設が増えているのではないか。 ・復興のために市が継続した取組を行っているのではないか。 <p>【調査で確かめたいこと】</p> <ul style="list-style-type: none"> ・新しくできた防災施設はどこにあるのか。 ・復興のために市が力を入れていることは何か。 <p>【調査方法】</p> <ul style="list-style-type: none"> ・地形図の活用：今と昔の土地利用の変化を比較する。 ・野外調査：公園や空き地、^(a)防災施設の位置を確認する。 ・文献資料、統計資料の活用：^(b)国勢調査をもとに、地域の特徴を確認する。 ・聞き取り調査：市役所の職員に、^(c)復興のために力を入れていることについて^(d)聞く。 	
--	---

資料Ⅱ 仙台市宮城野区付近の新旧地形図



(図A：地理院地図2025年，図B：国土地理院2万5千分の1地形図「仙台東北部」「塩竈」1998年より作成)

(1) 下線部(a)について、資料Ⅱの図Aと図Bを比較して、読み取れることとして適切なものを、次のア～エから2つ選びなさい。

- ア 図Aの「中野(五)」付近には大きな建物が見られるが、以前は集落や田畑があった。
- イ 図Aの「白鳥(二)」付近には住宅地が広がっているが、以前は田畑として利用されていた。
- ウ 図Bの「屋敷」の付近には神社があるが、図Aではこの付近からなくなっている。
- エ 図Bの「港二丁目」付近には工場があり、図Aではさらに新たな建物が建てられている。

(2) 下線部(b)について、陽一さんは、図Aの地点Pで資料Ⅲの建物を見つけた。この建物に関して述べた次のX、Yの正誤の組み合わせとして適切なものを、後のア～エから選びなさい。

X この建物が建つ地点Pは、周囲に高台がなく、河川沿いの住宅地に近い。

Y この建物は、津波の被害から身を守ることを主な目的として建設された。

- ア 【X：正 Y：正】 イ 【X：正 Y：誤】
- ウ 【X：誤 Y：正】 エ 【X：誤 Y：誤】

資料Ⅲ



(仙台市ホームページより)

(3) 下線部(c)について、陽一さんの班では、仙台市の人口に関して資料Ⅳを作成し、次のようにまとめた。後の①、②の間に答えなさい。

仙台市は東北地方の中心都市で、と同じように区を設けた政令指定都市です。資料Ⅳから分かるように、同じ仙台市内であっても、区によって地域の特徴は異なっていて、通勤や通学で人が集まる区もあれば、郊外の住宅地域としての役割が大きい区もあります。

資料Ⅳ 仙台市宮城野区と太白区の人口

	㉞	㉟	㊱
	夜間人口 2015年	夜間人口 2020年	昼間人口 2020年
宮城野区	19.5万人	19.7万人	21.6万人
太白区	22.7万人	23.5万人	19.5万人

(総務省統計局ホームページにより作成)

① 文中のに当てはまる都市名の組み合わせを、次のア～エから1つ選びなさい。

- ア 札幌市や福岡市 イ 横浜市や水戸市 ウ 広島市や富山市 エ 京都市や高松市

② 資料Ⅳでは、㉞～㊱のうちの2つのデータを比較することによって、地域の特徴を読み取ることができる。宮城野区と太白区のうち、通勤や通学で人が集まるという特徴を持つ区の名称と、その特徴が読み取れるデータの組み合わせとして適切なものを、次のア～エから選びなさい。

- ア 区の名称：宮城野区 データ：㉞と㉟ イ 区の名称：宮城野区 データ：㉟と㊱
- ウ 区の名称：太白区 データ：㉞と㉟ エ 区の名称：太白区 データ：㉟と㊱

(4) 下線部(d)について、陽一さんは、東北地方の祭りに関する資料Ⅴと資料Ⅵを作成し、次のようにまとめた。資料Ⅴと資料Ⅵから読み取れることを踏まえ、文中のに当てはまる文を書きなさい。

東北地方では、昔から住民が豊作などを願って祭りを行ってきました。近年、これらの祭りには、という効果が期待され、復興の象徴として地域を活性化させる役割も果たしています。

資料Ⅴ 東北地方の主な祭りと開催期間中の客数(2023年)

	開催地	各市の人口	客数
仙台七夕まつり	仙台市	106.7万人	226.9万人
秋田竿燈まつり	秋田市	30.0万人	110.0万人
青森ねぶた祭	青森市	27.2万人	101.0万人

(総務省統計局ホームページ、日本銀行資料により作成)

資料Ⅵ

東北各地、日本全国から充実のアクセス

Railroad Access 仙台駅までの所要時間(最短)

JR東日本

東京駅から (東北新幹線) 約90分	秋田駅から (秋田新幹線) 約135分
新函館北斗駅から (北海道新幹線) 約155分	山形駅から (仙山線) 約70分
新青森駅から (東北新幹線) 約95分	福島駅から (東北新幹線) 約20分
盛岡駅から (東北新幹線) 約45分	

Air Route Access 仙台空港までの所要時間(最短)

仙台国際空港

*[仙台空港]からは、[仙台空港アクセス線]約25分(乗換17分)でJR仙台駅下車。

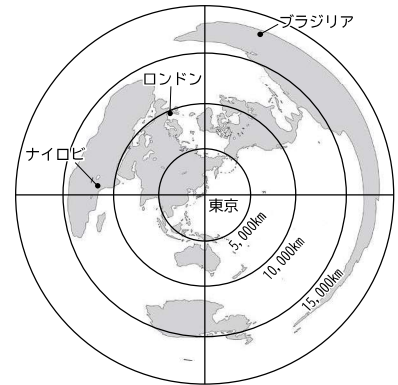
札幌から 約70分	大阪(伊丹)から 約70分	広島から 約80分
名古屋から 約65分	大阪(関西)から 約80分	福岡から 約105分
新潟から 約50分	神戸から 約80分	沖縄から 約150分

(「仙台七夕まつり公式リーフレット」より一部抜粋)

3 春香さんは、アフリカ州の学習において、「日本とアフリカには、どのようなつながりがあるのか」というテーマで調べ、まとめた。次の(1)~(5)の問いに答えなさい。

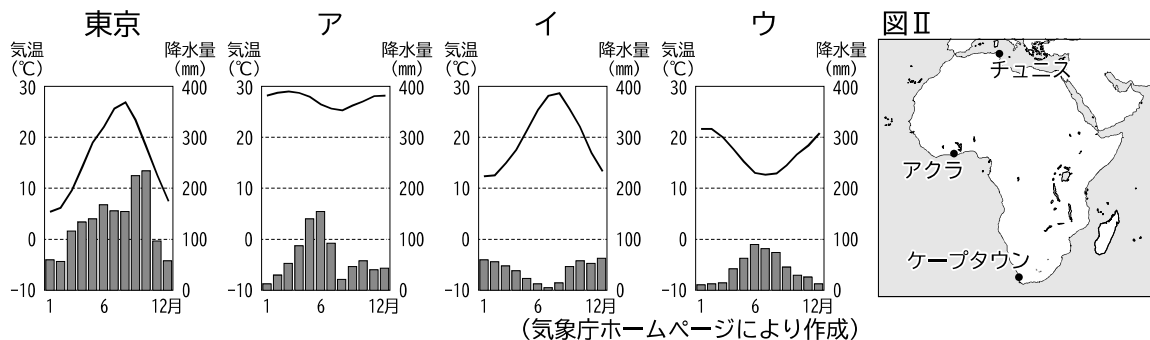
(1) 春香さんは、図Ⅰを使って日本とアフリカの位置関係を調べた。図Ⅰから読み取れるものとして適切なものを、次のア~エから1つ選びなさい。

図Ⅰ 東京からの距離と方位が正しく表されている世界地図



- ア 東京から見て、ナイロビは南西の方角にある。
- イ ナイロビは、東京から15,000 km以上離れている。
- ウ 東京ーブラジル間よりも、東京ーナイロビ間の方が距離が短い。
- エ 東京ーナイロビ間よりも、東京ーロンドン間の方が距離が長い。

(2) 春香さんは、日本とアフリカの気候の違いに興味を持ち、東京とアフリカの都市の気温と降水量を調べた。次のア~ウは、図Ⅱ中のチュニス、アクラ、ケープタウンのいずれかの都市の気温と降水量のグラフである。ケープタウンに当たるものを、次のア~ウから1つ選びなさい。

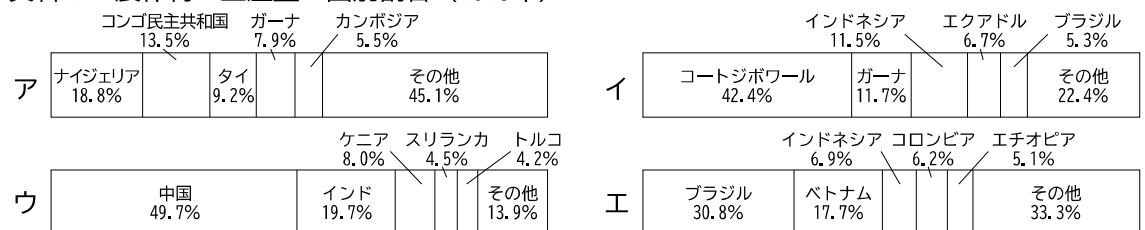


(3) 春香さんは、原材料がアフリカの特産品である身近な食品を調べ、資料Ⅰと資料Ⅱを作成した。資料Ⅱのア~エは、資料Ⅰ中の原材料に示した、茶、キャッサバ、コーヒー豆、カカオ豆のいずれかの農作物について、生産量の国別割合を示したものである。コーヒー豆に当たるものを、資料Ⅱのア~エから1つ選びなさい。

資料Ⅰ 原材料がアフリカの特産品である身近な食品

食品名	タピオカミルクティー		コーヒー	チョコレート
原材料	茶	キャッサバ	コーヒー豆	カカオ豆

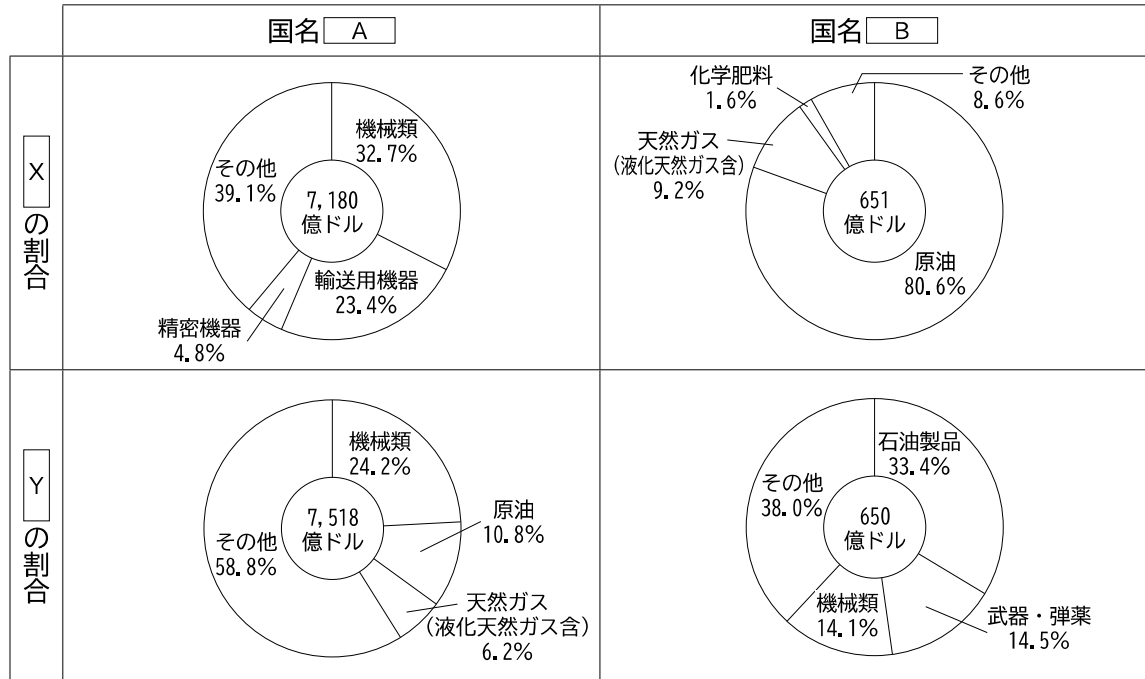
資料Ⅱ 農作物の生産量の国別割合 (2023年)



(「世界国勢図会2025/26」により作成)

(4) 春香さんは、アフリカの貿易の特徴について知りたいと思い、ナイジェリアを例に、日本の貿易品目と比較することにした。資料Ⅲ中の□Aと□Bは、日本とナイジェリアのいずれかを示しており、□Xと□Yは、輸入品目と輸出品目のいずれかを示している。資料Ⅲ中の□B、□Xに当てはまる語の組み合わせとして適切なものを、後のア～エから選びなさい。

資料Ⅲ 日本とナイジェリアの貿易額に占める輸入品目と輸出品目の割合（2023年）



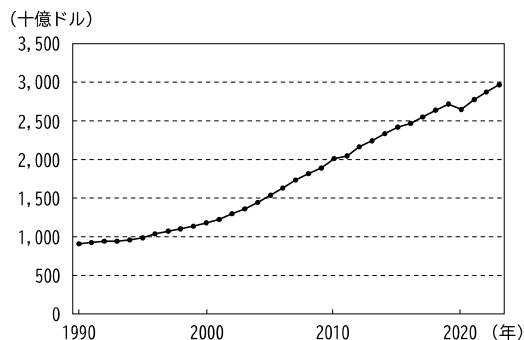
（「世界国勢図会2025/26」により作成）

- ア B：日本 X：輸入品目 イ B：日本 X：輸出品目
 ウ B：ナイジェリア X：輸入品目 エ B：ナイジェリア X：輸出品目

(5) 春香さんは、日本とアフリカの関係を探る中で、日本政府の主導により進められているアフリカ開発会議（TICAD）の事を知り、次のようにまとめた。文中の□に当てはまる文を、資料Ⅳと資料Ⅴから読み取れる変化に触れながら、簡潔に書きなさい。

アフリカ開発会議は、アフリカの開発をテーマとする国際会議で、その活動の1つには、民間企業のアフリカ進出に関する支援があります。アフリカは、□ため、近年、新たな市場を求めて進出する日本の民間企業の拠点数が増加しています。

資料Ⅳ アフリカのGDPの推移



※ 数値はアフリカ各国の総和であり、2015年時点の実質米ドルで表している。

（国際連合ホームページにより作成）

資料Ⅴ 日本とアフリカの人口

	1990年	2020年	2050年 (予測)
日本	1.24億人	1.26億人	1.05億人
アフリカ	6.44億人	13.81億人	24.67億人

（総務省統計局ホームページにより作成）

4 誠さんは、「日本は、他国とどのように関わってきたのだろうか」というテーマについて、日本の様々な時代における他国との関わりに着目して調べ、発表した。次のスライド、図、資料は、そのときに使用したものの一部である。後の(1)~(5)の問いに答えなさい。

スライド I

時代	他国との関わり	疑問に思ったこと
古墳時代 (a)	大和政権（ヤマト王権）は、中国に使いを送り、朝鮮半島の国に対して優位に立とうとした。	大和政権（ヤマト王権）は、朝鮮半島の国とどのような交流があったのだろうか。
奈良時代	日本が派遣した使節などによって、中国から政治の仕組みや文化がもたらされた。	中国との交流は、日本の政治や文化にどのような影響を与えたのだろうか。 ^(b)
鎌倉時代	フビライの要求を、当時の執権であった <input type="text" value="i"/> が拒否したため、元軍が2度にわたり九州北部に襲来した。	元の襲来によって、幕府の政治はどのように変化したのだろうか。
安土桃山時代	種子島に漂着した船に乗っていたポルトガル人によって、鉄砲が伝わった。	鉄砲の伝来は、日本の社会にどのような影響を与えたのだろうか。 ^(c)
江戸時代	薩摩藩は琉球王国を征服し、幕府によってその支配が認められた。	薩摩藩と琉球王国は、どのような関わりを持ったのだろうか。 ^(d)

(1) スライド I 中の に当てはまる人物名を書きなさい。

(2) 下線部(a)に関して、日本の古墳時代に当たる5世紀の東アジア情勢を示したものを図Aと図Bから選び、同時期の日本における代表的な出土品を資料 I と資料 II から選ぶとき、その組み合わせとして適切なものを、後のア~エから選びなさい。

図A



図B



資料 I

著作権の関係により省略します。

資料 II

著作権の関係により省略します。

- ア 東アジア情勢：図A 出土品：資料 I
 イ 東アジア情勢：図A 出土品：資料 II
 ウ 東アジア情勢：図B 出土品：資料 I
 エ 東アジア情勢：図B 出土品：資料 II

(3) 下線部(b)に関して、奈良時代の日本における政治や文化について説明した文として適切なものを、次のア~エから1つ選びなさい。


- ア 儒学の中でも、主従関係や上下関係を大切にする朱子学が重視され、広く学ばれた。
 イ 争乱によって焼け落ちた東大寺南大門が、中国の新しい建築様式によって再建された。
 ウ 西アジアやインドの品が中国を経由して日本へ伝わり、その一部は正倉院に収められた。
 エ 家柄にとらわれず有能な人を役人にするため、中国にならい冠位十二階の制度が設けられた。

- (4) 下線部(c)に関して、誠さんはスライドⅡを作成した。スライドⅡ中の□ ii □に当てはまる語と、□ iii □に当てはまる文の組み合わせとして適切なものを、後のア～エから選びなさい。

スライドⅡ

【課題】 鉄砲の伝来は、日本の社会にどのような影響を与えたのだろうか。


◇ 鉄砲による攻撃や防備のために、城の造りが変化した。



◇ □ ii □では、大量の鉄砲を有効に使う戦い方が採用された。

著作権の関係により省略します。

◇ 鉄砲が、□ iii □。



【まとめ】

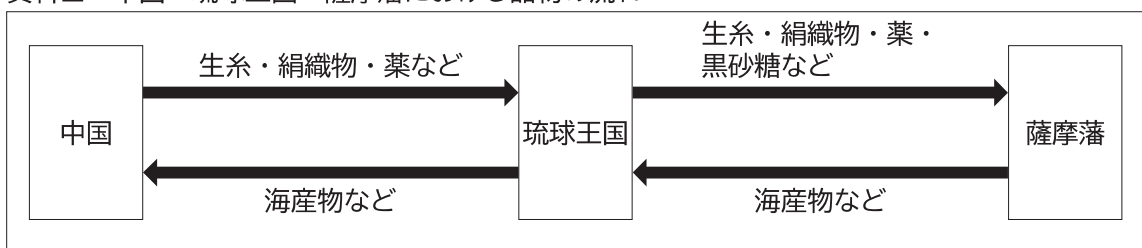
鉄砲の伝来は、戦い方を変え、鉄砲をそろえた大名を有利にし、全国統一の動きを加速させることになった。さらに、火薬や鉄などの需要を高め、経済・産業の発展を促した。

- ア ii : 長篠の戦い iii : 農民にも広く普及し、山城の国一揆で、主な軍事力となった
- イ ii : 長篠の戦い iii : 堺（大阪府）や国友（滋賀県）など、国内で大量に生産された
- ウ ii : 桶狭間の戦い iii : 農民にも広く普及し、山城の国一揆で、主な軍事力となった
- エ ii : 桶狭間の戦い iii : 堺（大阪府）や国友（滋賀県）など、国内で大量に生産された

- (5) 下線部(d)に関して、誠さんは資料Ⅲを用いて次のように発表した。文中の□ iv □に当てはまる文を、資料Ⅲから読み取れることを踏まえ、「品物」という語を用いて、簡潔に書きなさい。

15世紀に成立した琉球王国は、中国に朝貢を行い、17世紀初頭の薩摩藩による支配後もその継続が認められました。薩摩藩は、朝貢貿易を継続させることで、琉球王国を通して□ iv □，その一部を日本国内で販売するなどして利益を得ようとしてきました。

資料Ⅲ 中国・琉球王国・薩摩藩における品物の流れ



- 5 次の会話文は、万博（万国博覧会）について、優奈さんと翔太さんが、先生と交わしたものの一部である。後の(1)～(4)の問いに答えなさい。

会話文

優奈：去年の夏休みに、「大阪・関西万博」に行ってきました。

先生：貴重な経験をしましたね。ところで優奈さんは、万博の起源を知っていますか。

優奈：はい。世界で最初に産業革命を達成した で、1851年に第1回の万博が開催されたと、外務省のホームページに書いてありました。

先生：その通りです。ちなみに、日本は第1回の万博には参加していません。日本が初めて公式に政府として参加したのは、1873年にオーストリアで開催された「ウィーン万博」です。

翔太：そう言えば、「ウィーン万博」が開催された時代のヨーロッパでは、日本文化への関心の高まりがあったと授業で学びました。このことは「ジャポニスム」と呼ばれ、 らの作品がゴッホやモネに大きな影響を与えたそうですね。

先生：そうですね。「ウィーン万博」は日本の文化を広めることに貢献しました。さらに明治政府には、万博を通じて欧米諸国から技術や知識を吸収するというねらいもあったようですね。万博への参加は、明治政府が推し進めた近代化政策の一環だったのです。

翔太：^(a)そうだったのですか。万博は、社会の動きと密接に関係しているのですね。

優奈：ちなみに過去の万博を調べると、政治的な理由によって中止になった万博もあるみたいです。

翔太：では、「万博と社会とのつながり」^(b)をテーマとして、調べてみたいと思います。^(c)

- (1) 会話文中の , に当てはまる語の組み合わせとして適切なものを、次のア～エから選びなさい。

ア i：イギリス ii：葛飾北斎 イ i：イギリス ii：横山大観
ウ i：フランス ii：葛飾北斎 エ i：フランス ii：横山大観

- (2) 下線部(a)について、明治政府が推し進めた近代化政策として適切なものを、次のア～オから全て選びなさい。

ア 普通選挙法を定め、満25歳以上の男子に選挙権を与えた。
イ 国家総動員法を定め、労働力や物資を優先して戦争に回した。
ウ 地主の持つ小作地を強制的に買い上げて、小作人に安く売り渡した。
エ 学制を公布して、満6歳以上の子どもに教育を受けさせることとした。
オ 各地に製糸・紡績などの官営工場をつくり、近代的な産業を育てようとした。

- (3) 下線部(b)について、優奈さんは、政治的な理由によって中止になった万博に関して、資料Ⅰを用いて次のように説明した。文中の に当てはまる語を、後のア～エから1つ選びなさい。

資料Ⅰは、1940年に日本で開催される予定だった万博のチケット(回数入場券)です。この万博は、1937年の盧溝橋事件をきっかけに始まった の影響を受け、やむなく中止となったため、「幻の万博」と呼ばれています。

2025年に開催された「大阪・関西万博」では、資料Ⅰのチケットを持っている人は、決められた手続きを済ませれば入場が可能になることが話題となりました。

資料Ⅰ



(東京都中央区立郷土資料館ホームページより)

- ア 世界恐慌 イ 西南戦争 ウ 日中戦争 エ 満州事変

- (4) 下線部(c)について、翔太さんは、「万博と社会とのつながり」をテーマとして、次のレポートを作成した。後の①、②の問いに答えなさい。

レポート

【課題】
1970年に開催された「大阪万博」の展示品は、当時の社会の状況をどのように反映しているか。

【調べて分かったこと】

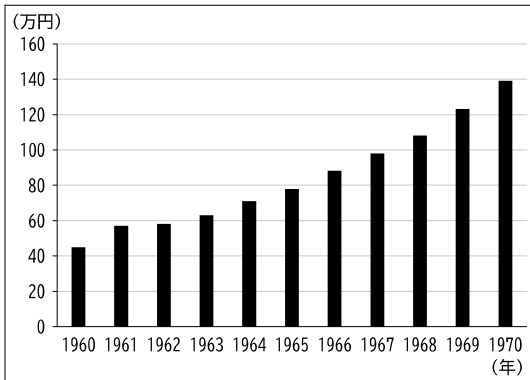
	アメリカ	ソ連	日本の企業
展示品の一部	宇宙船「アポロ12号」が月から持ち帰った石	実際に宇宙を飛行した宇宙船「ソユーズ」	「人間洗濯機」や「ワイヤレスステレホン(携帯電話)」

【考察】

- ・アメリカとソ連による展示品には、どちらも宇宙に関連した物がある。
→当時、両国は と呼ばれる厳しい対立の関係にあり、軍事兵器の開発競争と並んで、宇宙開発の成果などを競い合っていた状況を反映しているのではないか。
- ・日本の企業が、人々の暮らしに関わる革新的な技術を紹介し、話題になった。
→高度経済成長期に、 ことで、人々が未来の理想的な生活をイメージできるようになった状況を反映しているのではないか。

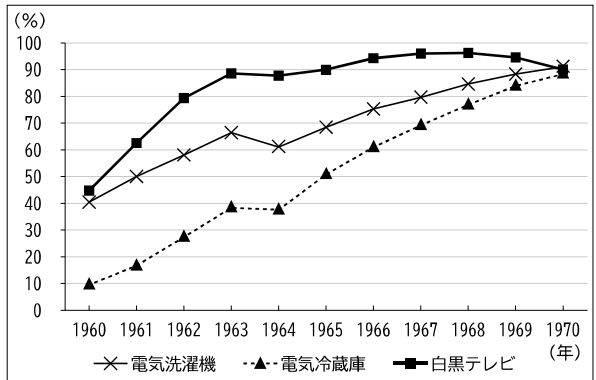
- ① レポート中の に当てはまる語を書きなさい。
- ② レポート中の に当てはまる文を、資料Ⅱと資料Ⅲを踏まえ、「生活」という語を用いて、簡潔に書きなさい。

資料Ⅱ 1世帯当たりの平均所得の推移



(総務省統計局ホームページにより作成)

資料Ⅲ 家庭電化製品の普及率の推移



(内閣府ホームページにより作成)

- 6 恵さんは、公民の学習のまとめとして、「より良い消費生活を送るために私たちができること」というテーマについて調べ、レポートを作成し、発表した。後の(1)~(5)の問いに答えなさい。

レポート

【テーマ】

より良い消費生活を送るために私たちができること

【テーマ設定の理由】

これまでに学習した金融や財政、企業活動などと、私たちの消費活動との結び付きについて調べることで、より良い消費生活を送るために私たちに何ができるか考えてみたいと思ったから。

【調査方法】

図書館の本、インターネット、聞き取り調査

【調べて分かったこと】

- ・給与などの収入と支出とのバランスを考えると消費活動をするのが大切であること。
- ・企業の健全な競争^(a)を促すことが、消費者の利益を守ることにつながる。
- ・国は、法律^(b)を制定するなどして、消費者の生活を守っている。
- ・環境^(c)や人権に配慮した商品に付けられる認証ラベルがある。

【まとめ】

- ・私たちは、消費税^(d)など、自分の納めた税金がどのような目的に使われているのか、絶えず関心を持って見守っていく必要がある。
- ・私たちは、自分の行動が地球環境などに与える影響^(e)を自覚して消費生活を送る「自立した消費者」を目指す必要がある。

- (1) 下線部(a)に関して、家計の消費支出の具体例として適切なものを、次のア~エから2つ選びなさい。

- ア 税金を納めた。
- イ 銀行に預金をした。
- ウ 食料品を購入した。
- エ 医療費を支払った。

- (2) 下線部(b)に関して、株式会社の仕組みについて説明した文として適切なものを、次のア~エから全て選びなさい。

- ア 株主は、株式会社が得た利潤（利益）の一部を配当として受け取る権利がある。
- イ 株式会社は、倒産した場合、株主に出資額を超える負担を求められることができる。
- ウ 株主は、株式会社の経営方針などについて、株主総会で意見を述べるができる。
- エ 株式会社は、株式を発行することで、必要な資金を多くの人々から集めることができる。

- (3) 下線部(c)に関して、次の会話文は、恵さんが聞き取り調査をした際に、ある食品会社の社長と交わしたものの一部である。会話文中の□ i □に当てはまる法律名を、後のア～エから1つ選びなさい。

恵：最近、物価が上昇しているというニュースをよく見ますが、こちらの会社では何か影響が出ていますか。

社長：最近では原材料の価格が上がってきて経営が苦しいです。うちの会社は商品の価格を上げないとやっていけません。

恵：では、同じ種類の商品を販売している会社と相談して、時期を合わせて同じ金額に値上げすることを提案したらどうですか。

社長：それは□ i □に違反する可能性があるんですよ。

恵：そうなんですね。教えていただきありがとうございます。詳しく調べてみます。

ア 労働基準法 イ 独占禁止法 ウ 製造物責任法 エ 消費者基本法

- (4) 下線部(d)に関して、恵さんは、消費税について次のように発表した。文中の□ ii □に当てはまる文を、「所得」、「割合」の2つの語を用いて、簡潔に書きなさい。

消費税は、原則、全ての国民が同じ金額の商品の購入に対して、同じ金額を負担します。

消費税は、全ての国民が負担を分かち合うという意味では公平ですが、所得が低い人ほど、

□ ii □という逆進性の問題も指摘されています。

- (5) 下線部(e)に関して、恵さんは、資料を用いて次のように説明した。文中の□ iii □に当てはまる文を、資料から読み取れることを踏まえ、宅配便の配達と温室効果ガスの排出との関係に着目して、簡潔に書きなさい。

資料は、地球温暖化対策のために国で進めていた「COOL CHOICE (クールチョイス)」という取組の1つを示しています。自動車依存度が高く、全国に比べて運輸部門における温室効果ガス排出量の割合が高い群馬県において、私は、この資料に示された取組のさらなる拡大が必要と考えます。その理由は、私たち消費者が、この資料に示された取組を意識することで、□ iii □ことができるからです。

私たちは、消費生活の中で資源やエネルギーを使うことで、廃棄物や温室効果ガスを出していることを自覚し、資源を節約し、環境に優しい行動をとる責任があります。

資料



COOL CHOICE
できるだけ1回で
受け取りませんかキャンペーン
みんなで宅配便再配達防止に取り組むプロジェクト

(環境省ホームページにより作成)

7 太郎さんの班では、政治の学習のまとめとして、テーマを決めて調べ、発表した。次のカード、メモ、資料は、そのときに使用したものの一部である。後の(1)~(5)の問いに答えなさい。

カードⅠ

【議院内閣制について】

衆議院は内閣に対して不信任決議権を行使できます。不信任決議が可決された場合、内閣は10日以内に衆議院を□ i □するか、総辞職するかを選択しなければなりません。

カードⅡ

【基本的人権について】

自由権や社会権、参政権に加えて、産業や科学技術の発展、インターネットの発達などの社会の変化にともなって、新しい人権が主張されるようになりました。

カードⅢ

【地方自治について】

地方自治は、「民主主義の学校」と呼ばれており、地方公共団体は、地域住民にとって身近な課題に対し、効率や公正など様々な観点から解決を図っています。

カードⅣ

【日本の選挙制度について】

日本の選挙制度は、衆議院が小選挙区比例代表並立制、参議院が原則として都道府県を単位とする選挙区制と比例代表制を組み合わせ

(1) カードⅠ中の□ i □に当てはまる語を書きなさい。

(2) 下線部(a)に関して、日本国憲法が保障している社会権について述べた文として適切なものを、次のア~エから全て選びなさい。

ア 憲法は、全ての国民は勤労の権利を有し、義務を負うと定めている。

イ 憲法が保障する労働基本権のうち、労働組合をつくる権利を団結権という。

ウ 憲法において無償と定めている義務教育とは、小学校から高等学校までの課程を指す。

エ 憲法は、健康で文化的な最低限度の生活を保障する権利として、生存権を保障している。

(3) 下線部(b)に関して、太郎さんは、新しい人権に関する2つの裁判について調べ、メモXとメモYにまとめた。それぞれの裁判で、守られるべきであると判断された権利の組み合わせとして適切なものを、後のア~エから選びなさい。

メモX

2階建ての住宅が建ったことに対し、隣に住む住民が「自宅が昼間でも暗くなり洗濯物が乾かなくなった」と訴え、裁判所は建物2階の一部撤去と賠償金の支払いを命じた。

メモY

ドローンによって自宅の庭を無許可で撮影され、その動画が公開されたことに対し、撮影された住民が「私生活の平穏を侵害された」と訴え、裁判所は動画の削除を命じた。

ア メモX：日照権 メモY：知る権利

イ メモX：日照権 メモY：プライバシーの権利

ウ メモX：自由権 メモY：知る権利

エ メモX：自由権 メモY：プライバシーの権利

- (4) 下線部(c)に関して、太郎さんの班では、公営バスの無償化について、「効率」と「公正」の視点から考えられるメリットとデメリットを資料Ⅰにまとめた。A～Dにはそれぞれ、次の①～④のいずれかが当てはまる。AとDに当てはまる文の組み合わせとして適切なものを、後のア～エから選びなさい。

資料Ⅰ

	メリット	デメリット
「効率」の視点	A	B
「公正」の視点	C	D

- ① 全ての住民が、乗車時に運賃を負担せずに利用できる。
 ② 地域全体の交通量が減少し、渋滞緩和につながる可能性がある。
 ③ 利用者が増えない場合、利用者一人当たりの運行費用が高くなる。
 ④ 路線が多い地域の住民は恩恵を受けやすいが、路線が少ない地域の住民は恩恵を受けにくい。

ア A：① D：③ イ A：① D：④

ウ A：② D：③ エ A：② D：④

- (5) 下線部(d)に関して、太郎さんは、参議院の選挙制度について、資料Ⅱを作成し、次のように説明した。資料Ⅱは、2013年時点と2016年時点における、北海道、鳥取県、島根県それぞれの選挙区の有権者数と参議院選挙区の議員定数を表したものである。文中の□ii□に当てはまる文を、簡潔に書きなさい。

2013年7月の参議院議員選挙において、鳥取県と島根県は異なる選挙区として選挙が実施されましたが、2016年7月の参議院議員選挙では、鳥取県と島根県は合区となり、1つの選挙区として実施されました。合区を導入し、資料Ⅱのように定数を変更した目的は、□ii□ことです。

資料Ⅱ 参議院選挙区の有権者数と議員定数の比較

2013年7月21日			
	有権者数	参議院選挙区の議員定数	議員一人当たりの有権者数
北海道	459万8,957人	4	114万9,739人
鳥取県	48万2,192人	2	24万1,096人
島根県	58万7,809人	2	29万3,905人
2016年7月10日			
	有権者数	参議院選挙区の議員定数	議員一人当たりの有権者数
北海道	461万3,374人	6	76万8,896人
鳥取県	48万3,895人	2	53万5,029人
島根県	58万6,162人		

(総務省ホームページにより作成)

